



Министерство здравоохранения Российской Федерации

федеральное государственное бюджетное образовательное учреждение
высшего образования

«Рязанский государственный медицинский университет
имени академика И.П. Павлова»

Министерства здравоохранения Российской Федерации
ФГБОУ ВО РязГМУ Минздрава России

Утверждено решением ученого совета
Протокол №10 от 21.05.2024 г.

Комплект оценочных материалов по дисциплине	«Экономическая теория»
Образовательная программа	Основная профессиональная образовательная программа высшего образования - программа специалитета по специальности 33.05.01 Фармация
Квалификация	Провизор
Форма обучения	Очная

Разработчик (и): кафедра гуманитарных дисциплин

ИОФ	Ученая степень, ученое звание	Место работы (организация)	Должность
О.В. Нариманова	кандидат экономических наук, доцент	ФГБОУ ВО РязГМУ Минздрава России	доцент

Рецензент (ы):

ИОФ	Ученая степень, ученое звание	Место работы (организация)	Должность
Д.Н. Оськин	кандидат медицинских наук, доцент	ФГБОУ ВО РязГМУ Минздрава России	декан фармацевтического факультета
Д.С. Титов	кандидат биологических наук	ФГБОУ ВО РязГМУ Минздрава России	зав. кафедрой управления и экономики фармации

Одобрено учебно-методической комиссией по специальностям Фармация и
Промышленная фармация
Протокол № 5 от 23.04. 2024 г.

Одобрено учебно-методическим советом.
Протокол № 7 от 25.04. 2024г.

1. Паспорт комплекта оценочных материалов

1.1. Комплект оценочных материалов (далее – КОМ) предназначен для оценки планируемых результатов освоения рабочей программы дисциплины «Экономическая теория»

1.2. КОМ включает задания для проведения текущего контроля и промежуточной аттестации.

Общее количество заданий и распределение заданий по типам и компетенциям:

Код и наименование компетенции	Количество заданий закрытого типа	Количество заданий открытого типа
УК 9. Способен принимать обоснованные экономические решения в различных областях жизнедеятельности	56	43
ОПК-3. Способен осуществлять профессиональную деятельность с учётом конкретных экономических, экологических, социальных факторов в рамках системы нормативно-правового регулирования сферы обращения лекарственных средств	52	40
Итого	108	83

1.3. Дополнительные материалы и оборудование для выполнения заданий (при необходимости).

Дополнительные материалы и оборудование для выполнения заданий не предусмотрены.

2. Задания всех типов, позволяющие осуществлять оценку всех компетенций, установленных рабочей программой дисциплины «Экономическая теория»

Код и наименование компетенции	№ п/п	Задание с инструкцией								
УК-9 Способен принимать обоснованные экономические решения в различных областях жизнедеятельности	Задания закрытого типа									
	1.	Установите правильную хронологическую последовательность возникновения течений экономической теории: А. Кейнсианство Б. Классическая буржуазная политическая экономия В. Меркантилизм Д. Неоклассицизм Запишите соответствующую последовательность цифр слева направо: <table border="1" data-bbox="414 598 638 662"> <tr> <td>А</td> <td>Б</td> <td>В</td> <td>Г</td> </tr> <tr> <td></td> <td></td> <td></td> <td></td> </tr> </table>	А	Б	В	Г				
	А	Б	В	Г						
2.	Установите правильную последовательность фаз (стадий) процесса воспроизводства: А. Потребление Б. Непосредственное производство В. Обмен Г. Распределение Запишите соответствующую последовательность цифр слева направо: <table border="1" data-bbox="414 869 638 933"> <tr> <td>А</td> <td>Б</td> <td>В</td> <td>Г</td> </tr> <tr> <td></td> <td></td> <td></td> <td></td> </tr> </table>	А	Б	В	Г					
А	Б	В	Г							
3.	Установите правильную хронологическую последовательность появления разных типов экономических систем: А. Административно-командная Б. Чистый капитализм В. Смешанная экономика Г. Традиционная экономика <table border="1" data-bbox="414 1109 638 1173"> <tr> <td>А</td> <td>Б</td> <td>В</td> <td>Г</td> </tr> <tr> <td></td> <td></td> <td></td> <td></td> </tr> </table>	А	Б	В	Г					
А	Б	В	Г							
4	Установите правильную последовательность прав собственности по принципу возрастания числа их участников (субъектов): А. Право на доход Б. Право суверена В. Право управления Г. Право использования Запишите соответствующую последовательность цифр слева направо: <table border="1" data-bbox="414 1420 638 1455"> <tr> <td>А</td> <td>Б</td> <td>В</td> <td>Г</td> </tr> <tr> <td></td> <td></td> <td></td> <td></td> </tr> </table>	А	Б	В	Г					
А	Б	В	Г							

5	<p>Расположите в правильной последовательности модели рынков по принципу возрастания конкуренции продавцов:</p> <p>А. Рынок монополистической конкуренции Б. Рынок совершенной (чистой) конкуренции В. Рынок чистой монополии Г. Рынок олигополистической конкуренции</p> <table border="1"> <tr> <td>А</td> <td>Б</td> <td>В</td> <td>Г</td> </tr> <tr> <td></td> <td></td> <td></td> <td></td> </tr> </table>	А	Б	В	Г				
А	Б	В	Г						
6	<p>Расположите в правильной последовательности следующие нормы амортизации для разных видов оборудования по принципу возрастания сроков списания первоначальной стоимости оборудования в амортизационный фонд:</p> <p>А. 20% Б. 10% В. 15% Г. 5%</p> <table border="1"> <tr> <td>А</td> <td>Б</td> <td>В</td> <td>Г</td> </tr> <tr> <td></td> <td></td> <td></td> <td></td> </tr> </table>	А	Б	В	Г				
А	Б	В	Г						
7	<p>Расположите рынки в правильной последовательности по степени возрастания их концентрации, если индекс Герфиндаля для этих рынков составляет:</p> <p>А. 10 000 Б. 3750 В. 6820 Г. 2250</p> <table border="1"> <tr> <td>А</td> <td>Б</td> <td>В</td> <td>Г</td> </tr> <tr> <td></td> <td></td> <td></td> <td></td> </tr> </table>	А	Б	В	Г				
А	Б	В	Г						
8	<p>Расположите следующие товары в правильной последовательности по принципу убывания коэффициента эластичности спроса по цене:</p> <p>А. Недвижимость Б. Хлеб В. Жизненно важные лекарства Г. Товары на рынке современной конкуренции</p> <table border="1"> <tr> <td>А</td> <td>Б</td> <td>В</td> <td>Г</td> </tr> <tr> <td></td> <td></td> <td></td> <td></td> </tr> </table>	А	Б	В	Г				
А	Б	В	Г						
9	<p>Расположите следующие группы товаров в правильной последовательности по принципу возрастания коэффициента эластичности спроса по доходу:</p> <p>А. Товары высшей категории Б. Товары низшей категории</p>								

В. Товары первой необходимости

Г. Пищевые продукты

А	Б	В	Г

10

Установите правильную последовательность рыночных периодов различной протяжённости в зависимости от возрастания эластичности предложения товаров в рамках этих периодов:

А. Долгосрочный период, отрасли с постоянными издержками

Б. Кратчайший период

В. Краткосрочный период

Г. Долгосрочный период, отрасли с изменяющимися издержками

А	Б	В	Г

11

Расположите в правильной последовательности значения средних валовых издержек (средней себестоимости единицы продукции), если известно, что фирма увеличивает объём выпуска продукции и при этом действует положительный эффект масштаба:

А. 250 руб.

Б. 300 руб.

В. 150 руб.

Г. 200 руб.

А	Б	В	Г

12

Установите правильную хронологическую последовательность возникновения следующих систем денежного обращения:

А. Золотодевизный стандарт

Б. Биметаллизм

В. Золотослитковый стандарт

Г. Золотомонетный стандарт

А	Б	В	Г

13

Установите правильную хронологическую последовательность возникновения международных валютных систем:

А. Бреттон-Вудская

Б. Золотой стандарт

В. Золотовалютный стандарт

Г. Ямайская

А	Б	В	Г

14	<p>Распределите следующие макроэкономические показатели по степени убывания их величины:</p> <p>А. Располагаемый доход Б. Валовый внутренний продукт В. Личный доход Г. Зарплата</p> <table border="1" data-bbox="414 308 640 368"> <tr> <td>А</td> <td>Б</td> <td>В</td> <td>Г</td> </tr> <tr> <td></td> <td></td> <td></td> <td></td> </tr> </table>			А	Б	В	Г																														
А	Б	В	Г																																		
15	<p>Расположите в правильной последовательности денежные агрегаты по принципу возрастания объёма их денежной массы:</p> <p>А. М2 Б. L В. М0 Г. М1</p> <table border="1" data-bbox="414 564 640 639"> <tr> <td>А</td> <td>Б</td> <td>В</td> <td>Г</td> </tr> <tr> <td></td> <td></td> <td></td> <td></td> </tr> </table>			А	Б	В	Г																														
А	Б	В	Г																																		
16	<p>К каждой позиции, данной в левом столбце, подберите соответствующую позицию из правого столбца:</p> <table border="1" data-bbox="414 676 1503 1109"> <thead> <tr> <th></th> <th>Формы рынка</th> <th></th> <th>Примеры</th> </tr> </thead> <tbody> <tr> <td>А</td> <td>монополия</td> <td>1</td> <td>Фондовая биржа</td> </tr> <tr> <td>Б</td> <td>монопсония</td> <td>2</td> <td>ФГУП «Почта России» ПАО «Российские железные дороги»</td> </tr> <tr> <td>В</td> <td>олигополия</td> <td>3</td> <td>Несколько агрохолдингов покупают сельскохозяйственную продукцию множества фермеров</td> </tr> <tr> <td>Г</td> <td>олигопсония</td> <td>4</td> <td>Производство автомобилей несколькими крупными компаниями</td> </tr> <tr> <td>Д</td> <td>полиполия</td> <td>5</td> <td>Рынок труда населённого пункта, где все жители работают на единственном предприятии</td> </tr> </tbody> </table> <p>Запишите выбранные цифры под соответствующими буквами:</p> <table border="1" data-bbox="414 1177 698 1254"> <tr> <td>А</td> <td>Б</td> <td>В</td> <td>Г</td> <td>Д</td> </tr> <tr> <td></td> <td></td> <td></td> <td></td> <td></td> </tr> </table>				Формы рынка		Примеры	А	монополия	1	Фондовая биржа	Б	монопсония	2	ФГУП «Почта России» ПАО «Российские железные дороги»	В	олигополия	3	Несколько агрохолдингов покупают сельскохозяйственную продукцию множества фермеров	Г	олигопсония	4	Производство автомобилей несколькими крупными компаниями	Д	полиполия	5	Рынок труда населённого пункта, где все жители работают на единственном предприятии	А	Б	В	Г	Д					
	Формы рынка		Примеры																																		
А	монополия	1	Фондовая биржа																																		
Б	монопсония	2	ФГУП «Почта России» ПАО «Российские железные дороги»																																		
В	олигополия	3	Несколько агрохолдингов покупают сельскохозяйственную продукцию множества фермеров																																		
Г	олигопсония	4	Производство автомобилей несколькими крупными компаниями																																		
Д	полиполия	5	Рынок труда населённого пункта, где все жители работают на единственном предприятии																																		
А	Б	В	Г	Д																																	
17	<p>К каждой позиции, данной в левом столбце, подберите соответствующую позицию из правого столбца:</p> <table border="1" data-bbox="414 1323 1520 1465"> <thead> <tr> <th></th> <th>Модели рынка</th> <th></th> <th>Основные признаки</th> </tr> </thead> <tbody> <tr> <td>А</td> <td>Рынок совершенной (чистой) конкуренции</td> <td>1</td> <td>один продавец и много покупателей; отсутствие заменителей у продукта</td> </tr> </tbody> </table>				Модели рынка		Основные признаки	А	Рынок совершенной (чистой) конкуренции	1	один продавец и много покупателей; отсутствие заменителей у продукта																										
	Модели рынка		Основные признаки																																		
А	Рынок совершенной (чистой) конкуренции	1	один продавец и много покупателей; отсутствие заменителей у продукта																																		

Б	Рынок монополистической конкуренции	2	от 2 до 10 продавцов и много покупателей; продукт и однородный, и дифференцированный
В	Рынок олигополистической продукции	3	неограниченное число продавцов и покупателей; абсолютно однородный продукт
Г	Рынок чистой монополии	4	от 10 до 100 продавцов, неограниченное число покупателей; дифференцированный продукт

Запишите выбранные цифры под соответствующими буквами:

А	Б	В	Г

18

К каждой позиции, данной в левом столбце, подберите соответствующую позицию из правого столбца:

	Рынки финансовых ресурсов		Рыночные структуры
А	Денежно-кредитный рынок	1	Биржи драгоценных металлов
Б	Рынок ценных бумаг	2	Валютные биржи, валютные отделы фондовых бирж и банков, пункты обмена валют
В	Валютный рынок	3	Фондовые биржи, брокерские фирмы
Г	Рынок драгоценных металлов	4	Банки и другие кредитно-финансовые учреждения

Запишите выбранные цифры под соответствующими буквами:

А	Б	В	Г

19

К каждой позиции, данной в левом столбце, подберите соответствующую позицию из правого столбца:

	Макроэкономические показатели		Экономическая характеристика
А	Валовый внутренний продукт	1	Оставшаяся часть личного дохода после уплаты налогов физическими лицами
Б	Валовый национальный доход	2	Сумма ВВП и сальдо первичных доходов из-за границы
В	Личный доход	3	Стоимость всех произведённых в стране за год товаров и услуг
Г	Распределительный доход	4	Сумма зарплаты, процентов, ренты,

потребляемой части прибыли, а также социальных выплат

Запишите выбранные цифры под соответствующими буквами:

А	Б	В	Г

К каждой позиции, данной в левом столбце, подберите соответствующую позицию из правого столбца:

	Формы предпринимательской деятельности		Определения
20	А ИП (индивидуальные предприятия)	1	Фирмы, находящиеся в совместной собственности двух или более лиц, имеющих свою долю в прибыли; участники являются равноправными собственниками и несут полную имущественную ответственность
	Б Полные товарищества	2	Фирмы, находящиеся в совместной собственности двух или более лиц; среди участников есть полные товарищи и участники -вкладчики
	В Товарищества на вере	3	Фирмы, где все права собственности осуществляет гражданин или его семья
	Г Общества с ограниченной ответственностью	4	Добровольные объединения граждан для совместной производственной или иной хозяйственной деятельности
	Д Акционерные общества	5	Фирмы, где уставной капитал формируется из вкладов учредителей, которые несут риск убытков в размере своего вклада
	Е Государственные и муниципальные унитарные предприятия	6	Крупные компании, уставной капитал которых разделён на определённое число долей (акций), принадлежащих участникам общества
	Ж Производственные кооперативы	7	Предприятия, которые принадлежат федеральным органам власти или органам местного самоуправления не обладают

			правами собственности на закреплённое за ними неделимое имущество
--	--	--	---

Запишите выбранные цифры под соответствующими буквами:

А	Б	В	Г	Д	Е	Ж

21

К каждой позиции, данной в левом столбце, подберите соответствующую позицию из правого столбца:

	Экономические понятия		Определения
А	Амортизация	1	Устаревание оборудования по сравнению с новыми, более эффективными его образцами
Б	Амортизационные отчисления	2	Постепенная потеря стоимости оборудованием и зданиями, а также накопление денежных средств на их восстановление в амортизационном фонде
В	Физический износ оборудования	3	Сумма ежегодных отчислений организаций в амортизационный фонд
Г	Моральный износ оборудования	4	Потеря оборудованием его функциональных свойств в процессе эксплуатации
Д	Норма амортизации	5	Установленный Министерством финансов процент ежегодных отчислений в амортизационный фонд от первоначальной стоимости оборудования и зданий

Запишите выбранные цифры под соответствующими буквами:

А	Б	В	Г	Д

22.

К каждой позиции, данной в левом столбце, подберите соответствующую позицию из правого столбца:

	Экономические ресурсы		Определения
А	Земля	1	Целесообразная, сознательная деятельность с целью получения экономических благ
Б	Капитал	2	Территория для размещения различных промышленных объектов, дорог, для ведения сельскохозяйственной деятельности; недра земли и силы природы

В	Труд	3	Созданные людьми производственные ресурсы, используемые для получения экономических благ и их доставки потребителю
Г	Предпринимательские способности	4	Умение создавать эффективный бизнес, находить оптимальную комбинацию ресурсов для максимизации прибыли

Запишите выбранные цифры под соответствующими буквами:

А	Б	В	Г

23

К каждой позиции, данной в левом столбце, подберите соответствующую позицию из правого столбца:

	Модели экономических процессов		Графическая интерпретация
А	Модель альтернативного использования постоянного объёма экономических ресурсов стран для выпуска двух видов продукции	1	Кривая изменения объёма ВВП страны во времени
Б	Эффект масштаба	2	Кривая зависимости средних валовых издержек фирмы в долгосрочном периоде от увеличения объёма производства продукции
В	Модель рыночного равновесия	3	Кривая производственных возможностей
Г	Модель экономического цикла	4	Пересекающиеся кривые спроса и предложения

Запишите выбранные цифры под соответствующими буквами:

А	Б	В	Г

Задания открытого типа

1. Дайте развернутый обоснованный ответ на вопрос:
Какие разделы включает экономическая теория?
2. Дайте развернутый обоснованный ответ на вопрос:
Какие функции выполняет экономическая наука?

3.	Дайте развернутый обоснованный ответ на вопрос: Что такое экономические блага и как они различаются в зависимости от их редкости?
4	Дайте развернутый обоснованный ответ на вопрос: Как подразделяются экономические блага в зависимости от их назначения и способов использования?
5	Дайте развернутый обоснованный ответ на вопрос: Что такое расширенное воспроизводство и каковы его типы?
6	Дайте развернутый обоснованный ответ на вопрос: Как можно оценить эффективность процесса воспроизводства в масштабах экономики
7	Дайте развернутый обоснованный ответ на вопрос: Что понимается под типами экономических систем?
8	Дайте развернутый обоснованный ответ на вопрос: На основе каких критериев выделяются типы экономических систем?
9	Дайте развернутый обоснованный ответ на вопрос: Что такое валовый внутренний продукт (ВВП)?
10	Дайте развернутый обоснованный ответ на вопрос: Каковы методы определения (измерения) валового внутреннего продукта (ВВП)?
11	Дайте развернутый обоснованный ответ на вопрос: Что является высшим органом управления акционерным обществом. Какие вопросы находятся в его исключительной компетенции?
12	Дайте развернутый обоснованный ответ на вопрос: Что такое право собственности и каково место этого понятия в современной теории собственности?
13	Дайте развернутый обоснованный ответ на вопрос: На основе каких критериев фирмы делятся на крупные, средние и мелкие?
14	Дайте развернутый обоснованный ответ на вопрос: Сформулируйте закон убывающей отдачи. На какие экономические ресурсы он распространяется?
15	Дайте развернутый обоснованный ответ на вопрос: В чём проявляется эффект масштаба? Что означают положительный и отрицательный эффект масштаба?
16	Дайте развернутый обоснованный ответ на вопрос: Что собой представляет рынок экономических ресурсов и какие подразделения он включает?
17	Дайте развернутый обоснованный ответ на вопрос:

	Какие модели рынка выделяются на основе особенностей конкуренции продавцов и характера реализуемой продукции?								
18	<p>Дайте развернутый обоснованный ответ на вопрос: Какие функции выполняют в современной смешанной экономике рыночные механизмы?</p>								
19	<p>Дайте развернутый обоснованный ответ на вопрос: В чём заключаются недостатки рыночных механизмов? Что означает «фиаско рынка»?</p>								
20	<p>Дайте развернутый обоснованный ответ на вопрос: Какие функции выполняет государство в современной смешанной экономике?</p>								
21	<p>Дайте развернутый обоснованный ответ на вопрос: Что такое экономические циклы? Какие фазы включает экономический цикл?</p>								
22	<p>Дайте развернутый обоснованный ответ на вопрос: Как различаются по продолжительности экономические циклы?</p>								
23	<p>Дайте развернутый обоснованный ответ на вопрос: Что означают понятия «рыночное равновесие» и «рыночное неравновесие»?</p>								
Задания закрытого типа (дополнительно)									
1.	<p>Прочитайте текст и выберите правильный ответ из предложенных. Изучение взаимодействия спроса и предложения с учетом влияния на них отдельных факторов является примером применения такого метода познания, как</p> <p style="margin-left: 40px;">А) Нормативный анализ Б) Моделирование В) Синтез Г) Эксперимент</p> <p>Запишите выбранный ответ – букву</p> <table border="1" style="margin-left: 40px; width: 100px;"> <tr> <td style="width: 25px; text-align: center;">А</td> <td style="width: 25px; text-align: center;">Б</td> <td style="width: 25px; text-align: center;">В</td> <td style="width: 25px; text-align: center;">Г</td> </tr> <tr> <td style="height: 20px;"></td> <td></td> <td></td> <td></td> </tr> </table>	А	Б	В	Г				
А	Б	В	Г						
2.	<p>Прочитайте текст и выберите правильный ответ из предложенных. Если объёмы производства сокращаются, то воспроизводство называется</p> <p style="margin-left: 40px;">А) Сокращенным Б) Постоянным В) Суженным Г) Простым</p> <p>Запишите выбранный ответ – букву</p> <table border="1" style="margin-left: 40px; width: 100px;"> <tr> <td style="width: 25px; text-align: center;">А</td> <td style="width: 25px; text-align: center;">Б</td> <td style="width: 25px; text-align: center;">В</td> <td style="width: 25px; text-align: center;">Г</td> </tr> <tr> <td style="height: 20px;"></td> <td></td> <td></td> <td></td> </tr> </table>	А	Б	В	Г				
А	Б	В	Г						

--	--	--	--

3. Прочитайте текст и выберите правильный ответ из предложенных.

В традиционной экономике главной отраслью является

- А) Промышленность
- Б) Сельское хозяйство
- В) Наука
- Г) Торговля

Запишите выбранный ответ – букву

А	Б	В	Г

4. Прочитайте текст и выберите правильный ответ из предложенных.

Акционерная собственность является

- А) Частной
- Б) Государственной
- В) Муниципальной
- Г) Личной

Запишите выбранный ответ – букву

А	Б	В	Г

5. Прочитайте текст и выберите правильный ответ из предложенных.

В _____ случае сбора фактической информации для подтверждения выдвинутой гипотезы исследователь использует _____ как метод экономической теории

- А) Дедукцию
- Б) Индукцию
- В) Абстрагирование
- Г) Моделирование

Запишите выбранный ответ – букву

А	Б	В	Г

Прочитайте текст и выберите правильный ответ из предложенных.

Оборудование предприятия рассчитано на 10 лет эксплуатации. Через 4 года в амортизационный фонд будет списано _____ % первоначальной стоимости оборудования, а его стоимость составит _____ %

- А) 60%; 40%
- Б) 10%; 90%

В) 40%; 60%
Г) 100% ; 0%
Запишите выбранный ответ – букву

А	Б	В	Г

6 Прочитайте текст и выберите правильный ответ из предложенных.

Акционерная собственность является

- А) Частной
- Б) Государственной
- В) Муниципальной
- Г) Личной

Запишите выбранный ответ – букву

А	Б	В	Г

7 Прочитайте текст и выберите правильный ответ из предложенных.

Величину дивидендов, распределяемых по акциям, определяет и утверждает

- А) Общее собрание акционеров
- Б) Совет директоров
- В) Правление акционерного общества
- Г) Председатель правления АО

Запишите выбранный ответ – букву

А	Б	В	Г

8 Прочитайте текст и выберите правильный ответ из предложенных.

Исключите неверное утверждение:

- А) Полная имущественная ответственность предпринимателя означает риск потерять и все вложения в бизнес, и всё личное имущество
- Б) Ограниченная ответственность означает только риск вкладом в бизнес
- В) Солидарная ответственность означает, что предприниматели несут совместную ответственность, при которой кредитор имеет право взыскать долг с любого из них, с нескольких или со всех в произвольной пропорции
- Г) Участники акционерных обществ несут полную имущественную ответственность.

Запишите выбранный ответ – букву

А	Б	В	Г

9	<p>Прочитайте текст и выберите правильный ответ из предложенных. К преимуществам крупных компаний по сравнению с мелкими и средними относятся</p> <p>А) Большая гибкость в адаптации к изменениям спроса Б) Диверсификация В) Меньшая бюрократизация Г) Отсутствие негативных последствий монополизма</p> <p>Запишите выбранный ответ – букву</p> <table border="1" data-bbox="414 391 638 464"> <tr> <td>А</td> <td>Б</td> <td>В</td> <td>Г</td> </tr> <tr> <td></td> <td></td> <td></td> <td></td> </tr> </table>	А	Б	В	Г				
А	Б	В	Г						
10	<p>Прочитайте текст и выберите правильный ответ из предложенных. Количество одного продукта, от производства которого следует отказаться для выпуска единицы другого продукта, называется</p> <p>А) Бартер Б) Альтернативная стоимость В) Парето - эффективность Г) Номинальная стоимость</p> <p>Запишите выбранный ответ – букву</p> <table border="1" data-bbox="414 782 638 855"> <tr> <td>А</td> <td>Б</td> <td>В</td> <td>Г</td> </tr> <tr> <td></td> <td></td> <td></td> <td></td> </tr> </table>	А	Б	В	Г				
А	Б	В	Г						
11	<p>Прочитайте текст и выберите правильный ответ из предложенных. Возможные комбинации производства двух продуктов в условиях полной занятости ресурсов страны представлены на</p> <p>А) Кривой производственных возможностей Б) Кривой убывающей отдачи В) Кривой средних валовых издержек в долгосрочном периоде Г) Кривой обучения</p> <p>Запишите выбранный ответ – букву</p> <table border="1" data-bbox="414 1173 638 1246"> <tr> <td>А</td> <td>Б</td> <td>В</td> <td>Г</td> </tr> <tr> <td></td> <td></td> <td></td> <td></td> </tr> </table>	А	Б	В	Г				
А	Б	В	Г						
12	<p>Прочитайте текст и выберите правильный ответ из предложенных. Национальный доход страны – это</p> <p>А) Сумма первичных и вторичных доходов в стране за год Б) Сумма первичных доходов в стране за год В) Стоимость произведённых в стране за год конечных товаров и услуг Г) Сумма личных доходов населения страны за год</p>								

Запишите выбранный ответ – букву

А	Б	В	Г

13

Прочитайте текст и выберите правильный ответ из предложенных.

Валовой внутренний продукт страны – это

- А) Сумма первичных и вторичных доходов в стране за год
- Б) Сумма первичных доходов в стране за год
- В) Стоимость произведённых в стране за год конечных товаров и услуг
- Г) Сумма личных доходов населения страны за год

Запишите выбранный ответ – букву

А	Б	В	Г

14

Прочитайте текст и выберите правильный ответ из предложенных.

В условиях макроэкономического равновесия

- А) Рыночный спрос равен рыночному предложению
- Б) Отсутствует инфляция
- В) Совокупный спрос равен совокупному предложению
- Г) Отсутствует безработица

Запишите выбранный ответ – букву

А	Б	В	Г

15

Прочитайте текст и выберите правильный ответ из предложенных.

Вторичные доходы (трансферты) включают:

- А) Проценты по банковским вкладам, арендные платежи, гонорары, прибыль
- Б) Пособия по безработице, по инвалидности, материнский капитал, пенсии, стипендии
- В) Пенсии, пособия многодетным, страховые платежи, арендные платежи
- Г) Зарплату, прибыль, проценты по банковским вкладам, ренту

Запишите выбранный ответ – букву

А	Б	В	Г

16

Прочитайте текст и выберите правильный ответ из предложенных.

Какая стадия воспроизводства отсутствует в условиях натурального хозяйства?

- А) Обмен
- Б) Производство

В) Распределение
Г) Потребление
Запишите выбранный ответ – букву

А	Б	В	Г

17 Прочитайте текст и выберите несколько правильных ответов из предложенных.
Ограниченной ответственностью в предпринимательстве обладают:

- А) Полные товарищи
- Б) Участники – вкладчики в товариществах на вере
- В) Учредители ИП
- Г) Акционеры

Запишите выбранный ответ – букву(-ы)

А	Б	В	Г

18 Прочитайте текст и выберите правильный ответ из предложенных.
использование каких экономических ресурсов подчиняется закону убывающей отдачи:

- А) Труда
- Б) Капитала
- В) Земли
- Г) Любых

Запишите выбранный ответ – букву

А	Б	В	Г

19 Прочитайте текст и выберите правильный ответ из предложенных.

Под ценными бумагами понимают

- А) Векселя
- Б) Акции и облигации
- В) Банкноты
- Г) Депозиты

Запишите выбранный ответ – букву

А	Б	В	Г

20 Прочитайте текст и выберите правильный ответ из предложенных.
Полная имущественная ответственность характерна для участников

А) ИП
Б) ООО
В) ОАО
Г) Полные товарищества
Запишите выбранный ответ – букву

А	Б	В	Г

21 Прочитайте текст и выберите несколько правильных ответов из предложенных.

Какие из указанных фирм не имеют права выпускать акции?

- А) Открытые акционерные общества
- Б) Закрытые акционерные общества
- В) Общества с ограниченной ответственностью
- Г) Хозяйственные товарищества

Запишите выбранный ответ – букву(-ы)

А	Б	В	Г

22 Прочитайте текст и выберите несколько правильных ответов из предложенных.

К постоянным издержкам относятся...

- А) заработная плата работников
- Б) амортизация машин и оборудования
- В) затраты на сырье и материалы
- Г) страховые выплаты

Запишите выбранный ответ – букву

А	Б	В	Г

23 Прочитайте текст и выберите несколько правильных ответов из предложенных.

На рынке физического капитала (инвестиционных товаров) покупатели предъявляют спрос на:

- А) оборудование
- Б) сырьё
- В) земельные участки для сельскохозяйственной деятельности
- Г) стиральные машины для домашних хозяйств

Запишите выбранный ответ – букву(-ы)

А	Б	В	Г

24	<p>Прочитайте текст и выберите несколько правильных ответов из предложенных. Признаками рынка олигополистической конкуренции являются А) Несколько продавцов и много покупателей Б) Однородный и дифференцированный продукт В) Прозрачность рынка Г) Отсутствие барьеров для входа и выхода с рынка Запишите выбранный ответ – букву(-ы)</p> <table border="1" data-bbox="414 391 638 462"> <tr> <td>А</td> <td>Б</td> <td>В</td> <td>Г</td> </tr> <tr> <td></td> <td></td> <td></td> <td></td> </tr> </table>	А	Б	В	Г				
А	Б	В	Г						
25	<p>Прочитайте текст и выберите несколько правильных ответов из предложенных. Функциями Центрального банка являются А) денежно-кредитное регулирование экономики Б) хранение золото-валютных резервов В) выдача среднесрочных кредитов юридическим лицам Г) хранение вкладов юридических лиц Запишите выбранный ответ – букву(-ы)</p> <table border="1" data-bbox="414 742 638 813"> <tr> <td>А</td> <td>Б</td> <td>В</td> <td>Г</td> </tr> <tr> <td></td> <td></td> <td></td> <td></td> </tr> </table>	А	Б	В	Г				
А	Б	В	Г						
26	<p>Прочитайте текст и выберите несколько правильных ответов из предложенных. Символическими деньгами не являются А) бумажные купюры Б) золотые монеты В) серебряные монеты Г) электронные кредитные карты Запишите выбранный ответ – букву(-ы)</p> <table border="1" data-bbox="414 1093 638 1165"> <tr> <td>А</td> <td>Б</td> <td>В</td> <td>Г</td> </tr> <tr> <td></td> <td></td> <td></td> <td></td> </tr> </table>	А	Б	В	Г				
А	Б	В	Г						
27	<p>Прочитайте текст и выберите правильный ответ из предложенных. Закон спроса выражает... А) независимость спроса от цены Б) прямую зависимость спроса от цены В) обратную зависимость спроса от цены Г) прямо пропорциональную зависимость спроса от цены Запишите выбранный ответ – букву</p> <table border="1" data-bbox="414 1444 638 1476"> <tr> <td>А</td> <td>Б</td> <td>В</td> <td>Г</td> </tr> </table>	А	Б	В	Г				
А	Б	В	Г						

28	<p>Прочитайте текст и выберите правильный ответ из предложенных. Эластичность спроса по цене при прочих равных условиях снижается в случае</p> <p>А) сокращения реальных доходов населения Б) увеличения количества товаров-заменителей на рынке В) роста реальных доходов населения Г) увеличения у покупателей количества времени для принятия решения о покупке.</p> <p>Запишите выбранный ответ – букву</p> <table border="1"> <tr> <td>А</td> <td>Б</td> <td>В</td> <td>Г</td> </tr> <tr> <td></td> <td></td> <td></td> <td></td> </tr> </table>	А	Б	В	Г						
А	Б	В	Г								
29	<p>Прочитайте текст и выберите правильный ответ из предложенных. Закон предложения выражает...</p> <p>А) независимость предложения от цены Б) прямую зависимость предложения от цены В) обратную зависимость предложения от цены Г) прямо пропорциональную зависимость предложения от цены</p> <p>Запишите выбранный ответ – букву</p> <table border="1"> <tr> <td>А</td> <td>Б</td> <td>В</td> <td>Г</td> </tr> <tr> <td></td> <td></td> <td></td> <td></td> </tr> </table>	А	Б	В	Г						
А	Б	В	Г								
30	<p>Прочитайте текст и выберите несколько правильных ответов из предложенных. Какой из признаков соответствует рынку совершенной (чистой) конкуренции...</p> <p>А) продавцы могут оказывать влияние на рыночную цену Б) неограниченное число продавцов и покупателей В) доступ участников рынка к экономической информации затруднен Г) однородная продукция</p> <p>Запишите выбранный ответ – букву(-ы)</p> <table border="1"> <tr> <td>А</td> <td>Б</td> <td>В</td> <td>Г</td> </tr> <tr> <td></td> <td></td> <td></td> <td></td> </tr> </table>	А	Б	В	Г						
А	Б	В	Г								
31	<p>Прочитайте текст и выберите правильный ответ из предложенных. С ростом налогов предложение на рынке...</p> <p>А) уменьшается Б) увеличивается В) остается без изменений Г) сначала сокращается, а потом возрастает</p>										

Запишите выбранный ответ – букву

А	Б	В	Г

32

Прочитайте текст и выберите правильный ответ из предложенных.

Спрос на жизненно важные лекарственные препараты ...

- А) совершенно эластичен
- Б) совершенно неэластичен
- В) эластичен
- Г) неэластичен

Запишите выбранный ответ – букву

А	Б	В	Г

33

Прочитайте текст и выберите правильный ответ из предложенных.

Коэффициент эластичности спроса по цене на предметы первой необходимости...

- А) равен 1
- Б) меньше 1
- В) больше 1
- Г) равен

Запишите выбранный ответ – букву

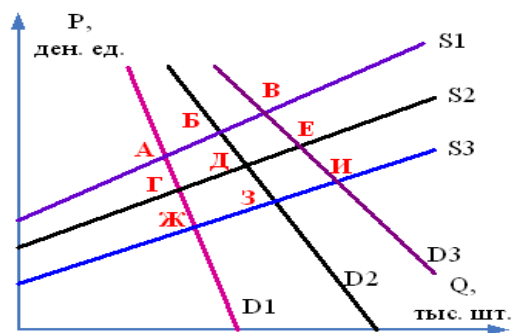
А	Б	В	Г

Практические задания

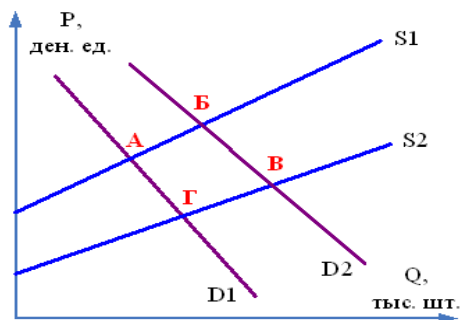
1

На рисунке представлены варианты рыночного равновесия при пересечении разных кривых спроса и предложения на рынке продуктов детского питания. Первоначально рыночное равновесие установилось в точке Д. Смещение рыночного равновесия с точку З произойдет, если...

- А. Повысится рождаемость;
- В. Увеличится количество производителей детского питания;
- С. Повысятся цены на компоненты для производства детского питания;
- Д. Увеличатся налоги на доходы производителей детского питания.

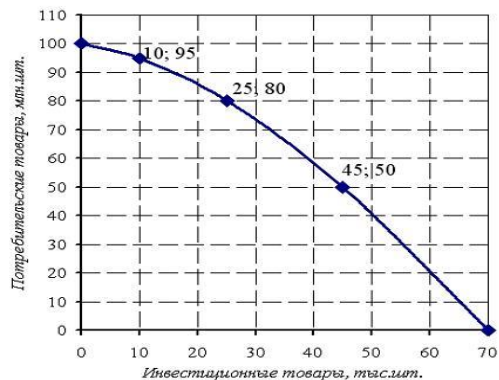


- 2 На рисунке представлены варианты рыночного равновесия при пересечении разных кривых спроса и предложения на рынке лекарственных препаратов против гриппа. Рыночное равновесие установилось в точке А. Какие изменения могут привести к смещению рыночного равновесия в точку Б?
- А. Предоставление государством дотаций фармацевтическим компаниям, производящим эти лекарственные препараты;
 - В. Эпидемия гриппа;
 - С. Повышение цен на сырье для производства лекарственных препаратов против гриппа;
 - Д. Увлечение населения самолечением с помощью народных средств.

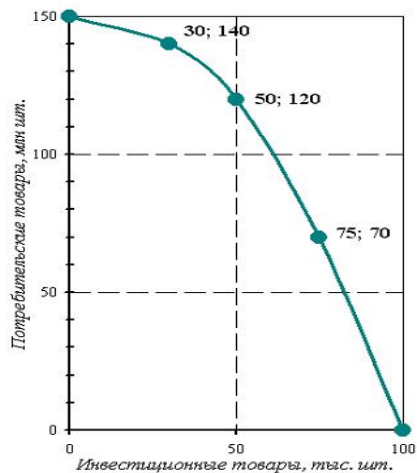


- 3 Валовые издержки частного медицинского центра представлены функцией:
 $TC = 2Q^4 - 5Q^3 + 7Q^2 + 10Q + 50$
 Чему равны постоянные издержки медицинского центра?

- 4 Экономика некоторой страны находится на границе своих производственных возможностей, которые отражены на рис.1. Текущая ситуация: производится 25 тыс. шт. инвестиционных товаров и 80 млн. шт. потребительских товаров. Определить альтернативную стоимость решения об увеличении производства инвестиционных товаров на 20 тыс. шт., выразив её в млн. шт. потребительских товаров.



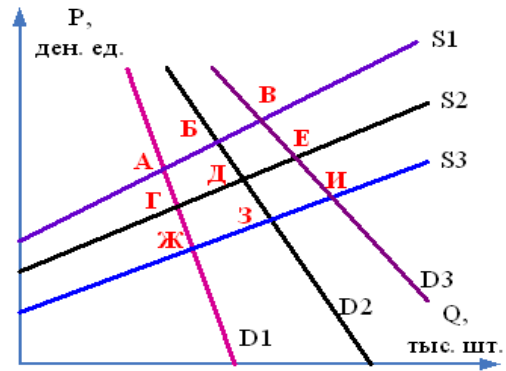
- 5 Экономика некоторой страны находится на границе своих производственных возможностей, которые отражены ниже на рисунке. Текущая ситуация: производится 75 тыс. шт. инвестиционных товаров и 70 млн. шт. потребительских товаров. Определить альтернативную стоимость решения об увеличении производства потребительских товаров на 50 млн. шт., выразив её в тыс. шт. инвестиционных товаров.



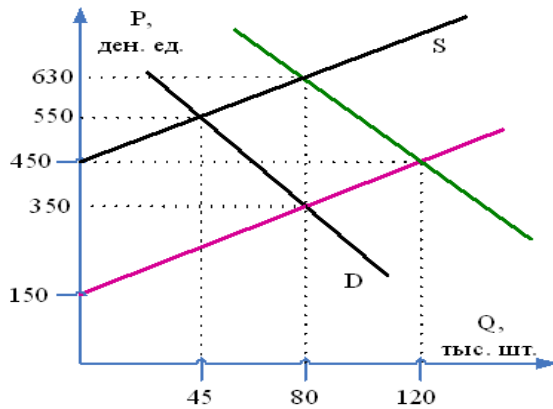
- 6 Экономика некоторой страны находится на границе своих производственных возможностей, которые отражены на рис. 3. Текущая ситуация: производится 50 тыс. шт. инвестиционных товаров и 140 млн. шт. потребительских товаров. Определить альтернативную стоимость решения об увеличении производства инвестиционных товаров на 25 тыс. шт., выразив её в млн. шт. потребительских товаров.

- 7 На рисунке представлены варианты рыночного равновесия при пересечении разных кривых спроса и предложения на вторичном рынке мебели. Рыночное равновесие установилось в точке D. Рост среднедушевых доходов населения при

прочих равных условиях первоначально приведет к установлению нового равновесия, соответствующего точке ...



- 8 Первоначальные кривые функций спроса и предложения на рынке некоторой продукции представлены линиями D и S на рис. Произошло снижение цен на топливо. Определить величину нового объема продаж и новую равновесную цену.



- 9 Валовые издержки фирмы представлены функцией:
 $TC = 2Q^4 - 5Q^3 + 7Q^2 + 10Q + 50$. Чему равны переменные издержки двух единиц продукции?

- 10 Зависимость валовых издержек (TC) от объемов производства (Q) представлена в таблице.

Q	0	10	15	25	30	40	50
---	---	----	----	----	----	----	----

		ТС	120	150	160	175	180	210	275	
		Величина средних переменных издержек при объеме производства, равном 40, составляет ...								
11	ВВП страны составил в базовом году 102 трлн. руб., в текущем году – вырос на 8% при индексе цен в этом году – 112%. Определите объем реального ВВП текущего года и индекс роста ВВП. В какой фазе цикла находится экономика?									
12	Ниже даны индексы цен за ряд лет: 2015 г. – 1008 %, 2016 – 1020%, причем 2000 – 100%. Определите уровень инфляции 2016 года.									
13	В некотором государстве доходы бюджета составили 385 ден. ед., расходы бюджета – 450 ден. ед., доходы внебюджетных фондов – 35 ден. ед. Определить общий дефицит бюджета.									
14	Население страны 60 млн. чел., в том числе дети – 13 млн. чел., пенсионеры – 12 млн. чел., занятые по найму – 25 млн. чел. и 5 млн. чел. – самозанятые (в малом бизнесе), госслужащие – 2 млн. чел., лица в рабочем возрасте, неработающие и не ищущие работу – 1 млн. чел. Определите количество безработных и уровень безработицы.									
15	Предприятие выпускает в месяц 300.000 ед. продукции и реализует ее по цене 1000 руб. Какой должна быть рентабельность продукции, чтобы месячная прибыль составила 120 млн. руб.?									
16	Себестоимость продукции составляет 2/3 цены. Цена продукции равна 24.000 руб. Предприятие производит в месяц 20.000 единиц продукции. Определить ежемесячную прибыль предприятия.									
17	Определить величину ежегодного дохода, который приносит земельный участок (величину земельной ренты), исходя из следующих данных. Минимальная цена, за которую владелец участка соглашается его продать, составляет 1250 тыс. руб., годовая ставка банковского процента равна 8%.									
18	Коэффициент эластичности спроса по цене на лекарственный препарат равен 2. Определить, на сколько процентов изменится объем продаж этого препарата, если цена упаковки повысилась со 120 до 150 руб									
19	Доходы бюджета страны равны 900 млрд. ден.ед., расходы на социальные нужды – 400 млрд. ден.ед., государственные закупки товаров и услуг – 350 млрд. ден.ед., проценты по обслуживанию государственного долга – 100 млрд. ден.ед.									

		Определить, сводится ли государственный бюджет с дефицитом или профицитом. Чему он равен?								
	20.	Уровень инфляции за год составил 18,1 %. Соответственно, в первом квартале цены выросли на 2 %, во втором на 5 %, в третьем на 6 %. Определить, на сколько процентов выросли цены в четвертом квартале								
Код и наименование компетенции	№ п/п	Задание с инструкцией								
ОПК-3. Способен осуществлять профессиональную деятельность с учётом конкретных экономических, экологических, социальных факторов в рамках системы нормативно-правового регулирования сферы обращения лекарственных средств	Задания закрытого типа									
	1.	Расположите в порядке возрастания следующие виды издержек медицинской организации: А. Валовые (общие) издержки (ТС) Б. Средние переменные издержки (AVC) В. Постоянные издержки (FC) Г. Средние валовые издержки (ATC) Запишите соответствующую последовательность цифр слева направо: <table border="1" style="margin-left: auto; margin-right: auto;"><tr><td>А</td><td>Б</td><td>В</td><td>Г</td></tr><tr><td> </td><td> </td><td> </td><td> </td></tr></table>	А	Б	В	Г				
	А	Б	В	Г						
2.	Расположите следующие страны в порядке возрастания взносов на обязательное медицинское страхование (в процентах от фонда заработной платы организации): А. Германия Б. Литва В. Россия Г. Чехия Запишите соответствующую последовательность цифр слева направо: <table border="1" style="margin-left: auto; margin-right: auto;"><tr><td>А</td><td>Б</td><td>В</td><td>Г</td></tr><tr><td> </td><td> </td><td> </td><td> </td></tr></table>	А	Б	В	Г					
А	Б	В	Г							
3.	Расположите следующие страны в порядке убывания расходов на здравоохранение (в процентах от ВВП): А. Венесуэла Б. Дания В. Китай Г. Россия									

Д. Швеция
 Е. Германия
 Ж. Казахстан
 З. Япония
 И. Норвегия
 К. Великобритания
 Л. Бразилия
 М. Швейцария
 Н. США
 О. Индия
 Р. Финляндия

Запишите соответствующую последовательность цифр
 слева направо:

А	Б	В	Г	Д	Е	Ж	З	И	К	Л	М	Н	О	П

4.

Расположите в хронологическом порядке следующие события:

- А. Создание системы бюджетного финансирования здравоохранения в ССР под руководством наркома здравоохранения Н.А. Семашко.
- Б. Создание в России земской медицины – эффективной системы организации медицинской помощи, не имевшей аналогов в мире
- В. Создание системы обязательного медицинского страхования в Германии по инициативе канцлера О. Бисмарка
- Г. Создание системы бюджетного финансирования в Великобритании по инициативе британского экономиста , либерального политика и социального реформатора У.Г. Бевриджа.

Запишите соответствующую последовательность цифр слева направо:

А	Б	В	Г

5

Установите последовательность этапов в формализованной технологии принятия решений, которая применяется в здравоохранении и в других сферах для экономической оценки крупных проектов, направленных на достижение нескольких результатов:

- А. Определение общей цели и конкретных задач
- Б. Составление перечня альтернативных вариантов достижения поставленных целей
- В. Определение стратегии
- Г. Оценка ожидаемых результатов по каждому варианту

Запишите соответствующую последовательность цифр слева направо:

А	Б	В	Г

6

Расположите следующие страны в порядке возрастания показателя «число больничных коек на 1 тыс. человек населения»:

- А. Австрия
- Б. Корея
- В. Мексика
- Г. Германия
- Д. Норвегия
- Е. Франция
- Ж. Россия
- З. Швейцария
- И. Япония
- К. Чехия
- Л. Великобритания

Запишите соответствующую последовательность цифр слева направо:

	Б	В	Г	Д	Е	Ж	З	И	К	Л
А										

7

Расположите следующие страны в порядке убывания среднего числа дней пребывания больного в стационаре:

- А. Чехия
- Б. Австрия
- В. Германия
- Г. Финляндия
- Д. Россия
- Е. Франция
- Ж. Великобритания

Запишите соответствующую последовательность цифр слева направо:

А	Б	В	Г	Д	Е	Ж

8	<p>Расположите следующие товары в порядке возрастания эластичности спроса по цене:</p> <p>А. Ресторанные блюда Б. Мясные продукты В. Безрецептурные лекарственные препараты от хронических заболеваний Г. Жизненно важные лекарственные препараты</p> <p>Запишите соответствующую последовательность цифр слева направо:</p> <table border="1" data-bbox="470 414 698 491"> <tr> <td>А</td> <td>Б</td> <td>В</td> <td>Г</td> </tr> <tr> <td> </td> <td> </td> <td> </td> <td> </td> </tr> </table>	А	Б	В	Г																
А	Б	В	Г																		
9	<p>Расположите следующие страны в порядке возрастания доли государственных больниц в общем числе больничных организаций:</p> <p>А. Франция Б. Великобритания В. Италия Г. США Д. Германия</p> <p>Запишите соответствующую последовательность цифр слева направо:</p> <table border="1" data-bbox="470 790 757 866"> <tr> <td>А</td> <td>Б</td> <td>В</td> <td>Г</td> <td>Д</td> </tr> <tr> <td> </td> <td> </td> <td> </td> <td> </td> <td> </td> </tr> </table>	А	Б	В	Г	Д															
А	Б	В	Г	Д																	
10	<p>Установите соответствие между группами стран и долей государственного бюджетного финансирования здравоохранения:</p> <table border="1" data-bbox="414 944 1328 1409"> <thead> <tr> <th></th> <th>Группы стран</th> <th></th> <th>Доля государственного бюджетного финансирования в общем финансировании здравоохранения</th> </tr> </thead> <tbody> <tr> <td>А</td> <td>Ирландия, Испания, Португалия</td> <td>1</td> <td>30%</td> </tr> <tr> <td>Б</td> <td>Россия, Германия, Франция</td> <td>2</td> <td>95%</td> </tr> <tr> <td>В</td> <td>Великобритания, Скандинавские страны</td> <td>3</td> <td>65-75%</td> </tr> <tr> <td>Г</td> <td>США</td> <td>4</td> <td>60-65%</td> </tr> </tbody> </table>		Группы стран		Доля государственного бюджетного финансирования в общем финансировании здравоохранения	А	Ирландия, Испания, Португалия	1	30%	Б	Россия, Германия, Франция	2	95%	В	Великобритания, Скандинавские страны	3	65-75%	Г	США	4	60-65%
	Группы стран		Доля государственного бюджетного финансирования в общем финансировании здравоохранения																		
А	Ирландия, Испания, Португалия	1	30%																		
Б	Россия, Германия, Франция	2	95%																		
В	Великобритания, Скандинавские страны	3	65-75%																		
Г	США	4	60-65%																		

Запишите выбранные цифры под соответствующими буквами:

А	Б	В	Г

11 Установите соответствие между видами издержек медицинских организаций и их определением:

	Виды издержек		Определение издержек
А	Постоянные издержки	1	Издержки, величина которых изменяется при изменении объёма произведённой продукции (медицинских услуг)
Б	Переменные издержки	2	Сумма постоянных и переменных издержек
В	Валовые (общие) издержки	3	Издержки, величина которых не изменяется при изменении объёма выпуска продукции (мед. услуг)
Г	Средние валовые издержки	4	Общая величина затрат в расчёте на единицу продукции (на одну медицинскую услугу)
Д	Средние постоянные издержки	5	Величина постоянных издержек в расчёте на единицу продукции (на одну мед. услугу)
Е	Средние переменные издержки	6	Прирост общих (валовых) издержек при выпуске ещё одной дополнительной единицы продукции (мед. услуги)
Ж	Пределные издержки	7	Величина переменных издержек в расчёте на единицу продукции (на одну мед. услугу)

Запишите выбранные цифры под соответствующими буквами:

А	Б	В	Г	Д	Е	Ж

12 Установите соответствие между экономическими понятиями и входящими в их состав элементами в медицинских организациях:

	Экономические понятия		Элементы, входящие в состав экономических понятий
А	Основные фонды	1	Зарплата медицинского персонала,

	медицинской организации		медикаменты и лекарства, реактивы и химикаты, мед. инструментарий, продукты питания, амортизации мягкого инвентаря и медицинского оборудования.
Б	Оборотные средства медицинской организации	2	Затраты на услуги связи, на транспортные и коммунальные услуги, командировочные расходы, амортизацию немедицинского оборудования, зарплата немедицинского персонала.
В	Косвенные (общие) затраты медицинской организации	3	Здания, сооружения, коечный фонд, лабораторное и лечебно-диагностическое оборудование, транспорт, производственная инфраструктура.
Г	Прямые затраты медицинских организаций	4	Фонд оплаты труда, медикаменты, перевязочные средства, средства ухода за больными (продукты питания, малоценный и быстроизнашивающийся инвентарь), электроэнергия

Запишите выбранные цифры под соответствующими буквами:

А	Б	В	Г

13 Установите соответствие между названием метода регулирования цен лекарственные препараты и его содержанием:

	Методы регулирования цен		Содержание методов ценового регулирования
А	Метод «издержки плюс»	1	Стимулирование максимального размера оптовых и розничных надбавок к цене производителя
Б	Сравнительное	2	Цена определяется по принципу :

	ценообразование		себестоимость + прибыль на единицу продукции (маржа)
В	Переговорное ценообразование	3	Ограничение цены определёнными пределами, в которых государство гарантирует оплату лекарств. В случае назначения препарата, стоимость которого превышает уровень такой цены, разницу доплачивает сам пациент.
Г	Ограничение прибыли	4	Цена на лекарство устанавливается с учётом его цен в других странах, выбранных для сравнения
Д	Фармакоэкономические расчёты	5	Регулирование (ограничение) прибыли фармацевтических компаний с помощью цен лекарств
Е	Ограничение торговых надбавок	6	Используется государственными органами при больших закупках лекарств у производителей или щедрой компенсации цен на них
Ж	Принципы референтных (базовых, опорных цен)	7	На более эффективные препараты внутри одной группы устанавливаются более высокие цены.

Запишите выбранные цифры под соответствующими буквами:

А	Б	В	Г	Д	Е	Ж

14 Установите соответствие между используемыми в медицине методами экономических оценок и областью их применения:

	Методы экономических оценок		Область применения методов
А	Метод минимизации затрат	1	Сравнение альтернатив, направленных на достижение одной цели, но достигающих её с

			разными результатами (различные методы лечения одного заболевания либо способы лечения разных заболеваний, приводящие к сокращению смертности или числа дней нетрудоспособности)
Б	Метод «затраты-результативность»	2	Оценка разнородных результатов, приводящих к улучшению качества жизни (снятие боли, повышение работоспособности, увеличение подвижности суставов, увеличение длительности состояния ремиссии и т.п.)
В	Метод «затраты – полезность»	3	Сравнение затрат и результатов, выраженных в денежной форме (затрат и результатов при вакцинации, хирургическом вмешательстве)
Г	Метод «затраты – выгоды»	4	Случаи, когда результаты изучаемых альтернатив идентичны, а затраты различаются (диагностические процедуры или несложные операции)

Запишите выбранные цифры под соответствующими буквами:

А	Б	В	Г

15 Установите соответствие между экономическими параметрами и воздействующими на них неценовыми факторами на рынке медицинских товаров и услуг:

	Экономические параметры		Неценовые факторы
А	Спрос	1	Цены на экономические ресурсы, технологии, налоги и дотации, ожидания продавцов, число продавцов
Б	Предложение	2	Фактор времени, продолжительность рыночного

			периода
В	Эластичность спроса по цене	3	Доходы покупателей, их вкусы и предпочтения, цена на сопряжённые товары, ожидания покупателей
Г	Эластичность предложения	4	Наличие товаров-заменителей, размер дохода покупателя, количество времени для принятия решения о покупке, доля цены товара в доходе покупателя, характер потребностей (степень важности)

Запишите выбранные цифры под соответствующими буквами:

А	Б	В	Г

16 Установите соответствие между странами и сферами планирования медицинской помощи в этих странах:

	Страны		Сферы планирования медицинской помощи
А	Великобритания	1	Планирование только стационарной помощи – государственных и частных больниц
Б	Нидерланды	2	Планирование стационарной и амбулаторной помощи в Национальной системе здравоохранения (включая частные врачебные практики).
В	Финляндия, Дания, Новая Зеландия	3	Ограниченное планирование части стационарной помощи.
Г	Германия, Франция, Италия, Канада	4	Планирование стационарной помощи в государственных больницах и амбулаторной помощи, оказываемой частными врачебными практиками.

Запишите выбранные цифры под соответствующими буквами:

А	Б	В	Г

17 Установите соответствие между системами финансирования медицинской помощи и источниками :

	Системы финансирования мед. помощи		Источники финансирования медицинской помощи
А	Система частного финансирования здравоохранения	1	Финансирование медицинских организаций из государственного бюджета
Б	Система обязательного медицинского страхования (ОМС)	2	Финансирование медицинских организаций за счёт отчислений средств физических и юридических лиц в целевые фонды
В	Система бюджетного финансирования здравоохранения	3	Финансирование организаций за счёт личных средств физически и юридических лиц.
Г	Система добровольного медицинского страхования (ДМС)	4	Финансирование медицинских организаций через специальных посредников за счёт средств налогоплательщиков (работодателей и работающих)

Запишите выбранные цифры под соответствующими буквами:

А	Б	В	Г

18 Установите соответствие между системами финансирования медицинской помощи и их преимуществами:

	Системы финансирования мед. помощи		Преимущества систем финансирования медицинской помощи
А	Система частного финансирования здравоохранения	1	Более низкие административные расходы на содержание органов управления здравоохранением, высокая социальная ориентированность
Б	Система обязательного	2	Жёстко закреплённые источники финансирования, более чёткая

	медицинского страхования (ОМС)		увязка гарантий медицинского обслуживания людей с разными финансовыми поступлениями
В	Система бюджетного финансирования здравоохранения	3	Высокое качество медицинского обслуживания
Г	Система добровольного медицинского страхования (ДМС)	4	Получение дополнительных медицинских и иных услуг сверх установленных программами ОМС.

Запишите выбранные цифры под соответствующими буквами:

А	Б	В	Г

19 Установите соответствие между видами издержек медицинской организации и их динамикой в краткосрочном рыночном периоде при увеличении объёма медицинских услуг:

	Виды издержек		Динамика издержек в краткосрочном рыночном периоде
А	Валовые (общие) издержки (ТС)	1	Не изменяются.
Б	Постоянные издержки (FC)	2	Сначала убывают, достигая минимального значения, затем возрастают.
В	Средние переменные, средние валовые и предельные издержки (AVC, ATC, MC)	3	Постоянно убывают.
Г	Средние постоянные издержки (AFC)	4	Постоянно возрастают.

Запишите выбранные цифры под соответствующими буквами:

А	Б	В	Г

20

Установите соответствие между различными субъектами ОМС в России и их ролью в системе обязательного медицинского страхования:

	Субъекты системы ОМС		Роли субъектов ОМС
А	Страховые медицинские организации	1	Получение медицинской помощи
Б	Медицинские организации, оказывающие медицинскую помощь в системе ОМС	2	Те, кто осуществляет финансовые отчисления в фонды ОМС
В	Работодатели и бюджет	3	Страхователи
Г	Граждане, обладающие страховыми полисами	4	Страховщики

Запишите выбранные цифры под соответствующими буквами:

А	Б	В	Г

Задания открытого типа

1

Дайте развернутый обоснованный ответ на вопрос:
От каких факторов зависит спрос на медицинские услуги?

2

Дайте развернутый обоснованный ответ на вопрос:
Чем определяется качество медицинских услуг как конечного продукта деятельности больниц?

3

Дайте развернутый обоснованный ответ на вопрос:
Что понимается по технической (локальной) эффективности больницы?

4

Дайте развернутый обоснованный ответ на вопрос:
Как различается соотношение между государственными, частными некоммерческими и частными коммерческими больницами в странах с различными системами здравоохранениями?

5

Дайте развернутый обоснованный ответ на вопрос:
Какие существуют типы систем здравоохранения?

6	Дайте развернутый обоснованный ответ на вопрос: Какие основные характеристики системы частного финансирования здравоохранения?
7	Дайте развернутый обоснованный ответ на вопрос: Какие основные характеристики системы обязательного медицинского страхования?
8	Дайте развернутый обоснованный ответ на вопрос: Как рассчитывается цена медицинской услуги?
9	Дайте развернутый обоснованный ответ на вопрос: Как рассчитывается себестоимость медицинской услуги?
10	Дайте развернутый обоснованный ответ на вопрос: Охарактеризуйте понятие система здравоохранения. Что понимается под национальной системой здравоохранения?
11	Дайте развернутый обоснованный ответ на вопрос: Что понимается под территориальной системой здравоохранения?
12	Дайте развернутый обоснованный ответ на вопрос: Охарактеризуйте источники финансирования медицинской помощи в системе обязательного медицинского страхования (ОМС).
13	Дайте развернутый обоснованный ответ на вопрос: Кто выступает в качестве страховщика в системе ОМС?
14	Дайте развернутый обоснованный ответ на вопрос: Кого обязан страховать страховщик в системе ОМС?
15	Дайте развернутый обоснованный ответ на вопрос: Каковы обязательства и ответственность страховщиков в системе ОМС?
16	Дайте развернутый обоснованный ответ на вопрос: Когда и где впервые появилась система бюджетного финансирования здравоохранения?
17	Дайте развернутый обоснованный ответ на вопрос: Каковы источники финансирования медицинской помощи населению в системе бюджетного финансирования?
18	Дайте развернутый обоснованный ответ на вопрос:

В чём заключается основное отличие системы бюджетного финансирования и системы ОМС от системы частного финансирования здравоохранения?

19 Дайте развернутый обоснованный ответ на вопрос:
Охарактеризуйте преимущества системы ОМС по сравнению с бюджетной системой финансирования здравоохранения.

20 Дайте развернутый обоснованный ответ на вопрос:
Охарактеризуйте преимущества системы бюджетного финансирования здравоохранения по сравнению с системой ОМС.

Задания закрытого типа (дополнительно)

1 Прочитайте текст и выберите несколько правильных ответов из предложенных.
Ключевыми субъектами в системе здравоохранения являются
А. Потребители медицинских услуг
Б. Поставщики медицинских услуг (медицинские организации)
В. Страховые посредники между потребителями и поставщиками
Г. Коммерческие банки
Запишите выбранный ответ – букву(-ы)

А	Б	В	Г

2 Прочитайте текст и выберите правильный ответ из предложенных.
В сфере здравоохранения преобладает:
А. Физический труд
Б. Малоквалифицированный труд
В. Интеллектуальный квалифицированный труд
Г. Высокоавтоматизированный труд
Запишите выбранный ответ – букву

А	Б	В	Г

3 Прочитайте текст и выберите правильный ответ из предложенных.
Услуги здравоохранения в целом относятся к:
А. Однородным услугам
Б. Дифференцированным услугам
В. Гомогенным услугам

Г. Типовым услугам
Запишите выбранный ответ – букву

А	Б	В	Г

4 Прочитайте текст и выберите несколько правильных ответов из предложенных.

Комплексная медицинская услуга:

А. Профосмотр

Б. Инъекция

В. Операция

Г. Все ответы правильные

Запишите выбранный ответ – букву(-ы)

А	Б	В	Г

5 Прочитайте текст и выберите правильный ответ из предложенных.

Спрос на услуги здравоохранения в целом:

А. Высокэластичен

Б. Относительно неэластичен

В. Абсолютно неэластичен

Г. Обладает единичной эластичностью

Запишите выбранный ответ – букв

А	Б	В	Г

6 Прочитайте текст и выберите правильный ответ из предложенных.

К факторам эластичности спроса на медицинские услуги не относятся:

А. Продолжительность времени у пациента для принятия решения

Б. Особенности медицинских технологий

В. Степень необходимости медицинской услуги

Г. Степень заменяемости медицинской услуги

Запишите выбранный ответ – букву

А	Б	В	Г

7 Прочитайте текст и выберите правильный ответ из предложенных.

К факторам эластичности предложения медицинских услуг не относятся:

А. Особенности медицинских технологий
Б. Уровень достигнутого использования ресурсов в медицине
В. Степень необходимости медицинской услуги
Г. Уровень издержек оказания медицинских услуг
Запишите выбранный ответ – букву

А	Б	В	Г

8 Прочитайте текст и выберите правильный ответ из предложенных.
Ценовая эластичность спроса на медицинские услуги – это:
А. Степень чувствительности спроса к изменению цены медицинской услуги
Б. Сезонный характер спроса на медицинские услуги
В. Традиции самолечения в нашей стране
Г. Степень чувствительности предложения к изменению цены медицинской услуги.
Запишите выбранный ответ – букву

А	Б	В	Г

9 Прочитайте текст и выберите правильный ответ из предложенных.
Цена, при которой величина предложения медицинских услуг равна величине спроса на них называется:
А. Оптовой
Б. Равновесной
В. Рыночной
Г. Розничной
Запишите выбранный ответ – букву

А	Б	В	Г

10 Прочитайте текст и выберите правильный ответ из предложенных.
Цена коммерческой медицинской услуги складывается из:
А. Издержек ее оказания минус оплата труда
Б. Издержек ее оказания плюс прибыль
В. Средних общих издержек плюс средняя прибыль
Г. Выручки минус издержки.
Запишите выбранный ответ – букву

А	Б	В	Г

11	<p>Прочитайте текст и выберите правильный ответ из предложенных. Издержки, которые могут быть сразу, без дополнительных расчетов, отнесены на те или иные виды оказываемых медицинских услуг: А. Косвенные Б. Прямые В. Вспомогательные Г. Страховые. Запишите выбранный ответ – букву</p> <table border="1" data-bbox="414 427 640 501"> <tr> <td>А</td> <td>Б</td> <td>В</td> <td>Г</td> </tr> <tr> <td></td> <td></td> <td></td> <td></td> </tr> </table>	А	Б	В	Г				
А	Б	В	Г						
12	<p>Прочитайте текст и выберите правильный ответ из предложенных. Косвенные расходы медицинского учреждения: А. Медикаменты Б. Продукты питания в стационарах В. Командировочные Г. Медицинское оборудование. Запишите выбранный ответ – букву</p> <table border="1" data-bbox="414 778 640 852"> <tr> <td>А</td> <td>Б</td> <td>В</td> <td>Г</td> </tr> <tr> <td></td> <td></td> <td></td> <td></td> </tr> </table>	А	Б	В	Г				
А	Б	В	Г						
13	<p>Прочитайте текст и выберите правильный ответ из предложенных. Прямые расходы медицинских организаций: А. Зарплата административно-управленческого персонала Б. Коммунальные и хозяйственные расходы В. Медикаменты Г. Арендные платежи. Запишите выбранный ответ – букву</p> <table border="1" data-bbox="414 1129 640 1203"> <tr> <td>А</td> <td>Б</td> <td>В</td> <td>Г</td> </tr> <tr> <td></td> <td></td> <td></td> <td></td> </tr> </table>	А	Б	В	Г				
А	Б	В	Г						
14	<p>Прочитайте текст и выберите правильный ответ из предложенных. К основным средствам в здравоохранении относят: А. Мягкий инвентарь Б. Медикаменты, перевязочный материал В. Здания, сооружения Г. Продукты питания в стационарах Запишите выбранный ответ – букву</p>								

А	Б	В	Г

15 Прочитайте текст и выберите правильный ответ из предложенных.
Износ основных фондов медицинских организаций компенсируется за счет:
А. Отчислений в амортизационный фонд
Б. Отчислений в фонд социального страхования
В. Отчислений в фонд развития медицинских организаций
Г. Отчислений в фонд оплаты труда.
Запишите выбранный ответ – букву

А	Б	В	Г

16 Прочитайте текст и выберите правильный ответ из предложенных.
Что такое Обязательное Медицинское страхование?
А. Составная часть государственной системы социального страхования
Б. Система, направленная на повышение размеров оплаты труда медицинских работников
В. То же, что и страхование от несчастных случаев
Г. То же, что и социальное страхование.
Запишите выбранный ответ – букву

А	Б	В	Г

17 Прочитайте текст и выберите правильный ответ из предложенных.
Какие гарантии дает обязательное медицинское страхование?
А. Получение всеми гражданами РФ медицинской помощи определенного объема и уровня
Б. Получение медицинской помощи минимального объема
В. Бесплатное получение гражданам высокотехнологичной дорогостоящей медицинской помощи
Г. выплату пособий в случае временной утраты трудоспособности.
Запишите выбранный ответ – букву

А	Б	В	Г

18 Прочитайте текст и выберите правильный ответ из предложенных.
Выберите утверждение, относящееся к добровольному медицинскому страхованию:
А. Может осуществляться только региональными фондами ОМС
Б. Направлено на получение гарантий более высокого уровня медицинской помощи сверх установленных программой ОМС
В. В Российской Федерации отсутствует в связи с наличием обязательного медицинского страхования

Г. Может осуществляться при отказе от участия в системе обязательного медицинского страхования
Запишите выбранный ответ – букву

А	Б	В	Г

19 Прочитайте текст и выберите правильный ответ из предложенных.

Кто такой страховщик?

А. Гражданин-обладатель страхового полиса

Б. Страховая медицинская организация

В. Тот, кто уплачивает страховые взносы

Г. Лечебное учреждение, оказывающее медицинскую помощь в системе ОМС.

Запишите выбранный ответ – букву

А	Б	В	Г

20 Прочитайте текст и выберите правильный ответ из предложенных.

Кто такой страхователь?

А. Гражданин-обладатель страхового полиса

Б. Страховая медицинская организация

Г. Гражданин, который уплачивает страховые взносы

Д. Медицинское учреждение, оказывающее медицинскую помощь в системе ОМС.

Запишите выбранный ответ – букву

А	Б	В	Г

21 Прочитайте текст и выберите правильный ответ из предложенных.

Выберите утверждение, которое относится к страховой медицинской организации?

А. Имеет право контролировать качество оказания медицинской помощи

Б. Контролирует качество оказания медицинской помощи только при возникновении жалоб от пациентов

В. Участвует в лицензировании лечебно-профилактических учреждений

Г. Участвует в аттестации медицинских работников.

Запишите выбранный ответ – букву

А	Б	В	Г

22	<p>Прочитайте текст и выберите правильный ответ из предложенных. Кем осуществляются финансовые отчисления в фонды ОМС? А. Работодателями Б. За счет средств бюджета В. Лично гражданами Г. Работодателями и за счет средств бюджета Запишите выбранный ответ – букву</p> <table border="1" data-bbox="414 391 638 464"> <tr> <td>А</td> <td>Б</td> <td>В</td> <td>Г</td> </tr> <tr> <td></td> <td></td> <td></td> <td></td> </tr> </table>	А	Б	В	Г				
А	Б	В	Г						
23	<p>Прочитайте текст и выберите правильный ответ из предложенных. Территориальная программа ОМС определяет... А. Объемы оказания медицинской помощи за счет средств бюджета и ОМС Б. Перечень лечебных учреждений, участвующих в системе ОМС В. Источники финансирования системы ОМС Г. Направления развития страховых медицинских организаций на данной территории. Запишите выбранный ответ – букву</p> <table border="1" data-bbox="414 742 638 815"> <tr> <td>А</td> <td>Б</td> <td>В</td> <td>Г</td> </tr> <tr> <td></td> <td></td> <td></td> <td></td> </tr> </table>	А	Б	В	Г				
А	Б	В	Г						
24	<p>Прочитайте текст и выберите правильный ответ из предложенных. Суть принципа общественной солидарности при обязательном медицинском страховании: А. Богатый платит за бедного Б. Здоровый платит за больного В. Чем старше контингент застрахованных, тем больше взнос Г. Молодой платит за пожилого Запишите выбранный ответ – букву(-ы)</p> <table border="1" data-bbox="414 1093 638 1166"> <tr> <td>А</td> <td>Б</td> <td>В</td> <td>Г</td> </tr> <tr> <td></td> <td></td> <td></td> <td></td> </tr> </table>	А	Б	В	Г				
А	Б	В	Г						
25	<p>Прочитайте текст и выберите правильный ответ из предложенных. Страхователь при обязательном медицинском страховании для работающих граждан: А. Предприятие (работодатель) Б. Гражданин В. Органы исполнительной власти Г. Профсоюзные органы Запишите выбранный ответ – букву</p> <table border="1" data-bbox="414 1444 638 1477"> <tr> <td>А</td> <td>Б</td> <td>В</td> <td>Г</td> </tr> <tr> <td></td> <td></td> <td></td> <td></td> </tr> </table>	А	Б	В	Г				
А	Б	В	Г						

26	Прочитайте текст и выберите правильный ответ из предложенных. Страхователь при обязательном медицинском страховании для неработающих граждан: А. Предприятие (работодатель) Б. Гражданин В. Органы исполнительной власти Запишите выбранный ответ – букву			
		А	Б	В
				Г
27	Прочитайте текст и выберите несколько правильных ответов из предложенных. Источниками финансирования системы обязательного медицинского страхования в России являются: А. Средства предприятия Б. Личные средства граждан В. Бюджетные средства Г. Кредиты банков Запишите выбранный ответ – букву(-ы)			
		А	Б	В
				Г
28	Прочитайте текст и выберите правильный ответ из предложенных. Документ, выдающийся медицинскому учреждению после успешного прохождения аккредитации: А. Диплом Б. Свидетельство В. Лицензия Г. Сертификат Запишите выбранный ответ – букву			
		А	Б	В
				Г
29	Прочитайте текст и выберите правильный ответ из предложенных. Источники финансирования учреждений здравоохранения в условиях обязательного медицинского страхования: А. Средства обязательного медицинского страхования Б. Государственный бюджет, местные бюджеты В. Доходы от платных услуг населения Г. Средства от добровольного страхования, коммерческая деятельность Д. Все выше перечисленное			

Запишите выбранный ответ – букву

А	Б	В	Г

30 Прочитайте текст и выберите несколько правильных ответов из предложенных.

Виды страхования

А. Имущественное

Б. Страхование ответственности

В. Страхование от стихийных бедствий

Г. Личное страхование

Запишите выбранный ответ – букву(-ы)

А	Б	В	Г

31 Прочитайте текст и выберите несколько правильных ответов из предложенных.

Видами личного страхования являются:

А. Страхование жизни

Б. Страхование от несчастных случаев

В. Пенсионное страхование

Г. Медицинское страхование

Запишите выбранный ответ – букву(-ы)

А	Б	В	Г

32 Прочитайте текст и выберите несколько правильных ответов из предложенных.

Страна, где функционирует государственная система здравоохранения:

А. Великобритания

Б. Италия

В. США

Г. Нидерланды

Запишите выбранный ответ – букву(-ы)

А	Б	В	Г

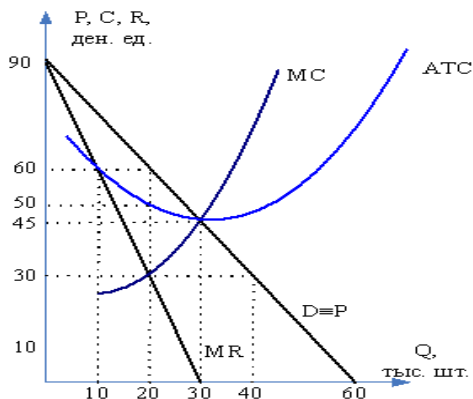
Практические задания

1. Задача. Мощность многопрофильного стационара 400 среднегодовых коек. Средняя занятость койки в году составляет 330 дней. Фактически койка была занята 310 дней. Расходы на содержание стационара за год составили 417,8 млн. руб. При простое койки экономится $\approx 25,0\%$ от стоимости койко-дня. Рассчитайте экономические потери

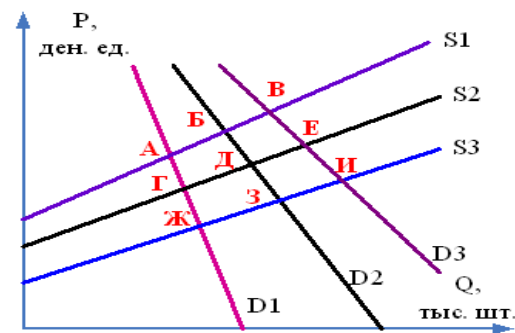
	<p>многопрофильного стационара в результате простоя коек.</p>
2.	<p>Задача. В поликлинике городской больницы 8 участковых врачей-терапевтов выполнили за год 44500 посещений. Рассчитайте плановую функцию врачебной должности за год. Для расчета плановой функции врачебной должности используйте следующие данные: годовой бюджет рабочего времени участкового терапевта 1800 часов; норма нагрузки на приеме в поликлинике – 4 посещения в 1 час, при проф. осмотре – 5 чел. в 1 час, при посещении на дому – 1,5 чел. в час; соотношение этих видов деятельности в графике работы 0,4 : 0,3 : 0,3.</p>
3.	<p>Задача. Функции спроса и предложения на рынке фармацевтического препарата имеют вид соответственно: $Q_d = 450 - 4P$ и $Q_s = 50P - 400$. При какой цене избыточное предложение препарата равно величине спроса? При какой цене избыточный спрос на препарат равен величине предложения?</p>
4.	<p>Задача. На предприятии работают 4000 человек. Число случаев заболеваемости с ВУТ за прошлый год составило 2880. В результате проведения профилактических мероприятий за счет дополнительных затрат на сумму 1 700 000 руб. заболеваемость снизилась до 2440 случаев в год. Стоимость продукции, производимой за один рабочий день в расчете на одного работающего, составила в среднем 3400 руб. Среднедневной размер выплат по листу нетрудоспособности 1560 руб. Стоимость лечения в расчете на 1 больного за один календарный день 420 руб. Средняя продолжительность 1 случая временной утраты трудоспособности 14 дней. Определить экономический эффект от проведения профилактических мероприятий.</p>
5.	<p>Задача. В стационаре городской больницы в течение года лечилось 19 000 человек, в том числе 11 000 работающих. Средний срок пребывания в стационаре одного больного сократился за этот год на 0,5 дня по сравнению с прошлым годом. Это произошло в результате улучшения диагностического процесса и обеспечения медикаментами за счет дополнительных затрат на сумму 5 500 000 руб. Стоимость продукции, производимой за один рабочий день в расчете на одного работающего, составила в среднем 5700 руб. Среднедневной размер выплат по листу нетрудоспособности 1350 руб. Стоимость пребывания в стационаре в расчете на одного больного за один календарный день 3650 руб. Определите экономическую эффективность от улучшения диагностического процесса и обеспечения медикаментами.</p>
6.	<p>Задача. Функции спроса и предложения на рынке лекарственного препарата имеют вид соответственно: $Q_d = 1000 - 50P$ (тыс. шт. упаковок) и $Q_s = 20P - 50$ (тыс. шт. упаковок). Чему будет равна общая выручка TR всех продавцов лекарственного препарата на рынке?</p>

7	<p>Задача. На рынке три группы пациентов, предъявляющих спрос на лекарственный препарат. Спрос каждой из групп описывается соответствующей обратной функцией спроса P_d:</p> <p>1) $P_d=5-0,25Q$; 2) $P_d=10-0,5Q$; 3) $P_d=8-0,5Q$. Рыночное предложение лекарственных препаратов задано функцией $Q_s=6P$. Чему равны равновесные цена P_e и объем производства лекарственного препарата Q_e?</p>
8	<p>Задача. На сельском врачебном участке проживает 6500 населения. В сельскую участковую больницу госпитализируется 40% нуждающихся в медицинской помощи. Средняя продолжительность лечения пациента в больнице – 14,5 дней. Показатель госпитализации сельских жителей – 24%.</p> <p>Определить потребность в коечном фонде в сельской участковой больнице (СУБ) для госпитализации населения, проживающего на сельском врачебном участке</p>
9	<p>Задача. В детской поликлинике работает 15 врачей-педиатров участковых, каждый из них ежедневно 3 часа ведет прием пациентов в поликлинике и 3 часа обслуживает пациентов на дому. Норма нагрузки врача-педиатра участкового на приеме в поликлинике - 4 посещения в час, на дому – 2 посещения в час. В планируемом году 278 рабочих дней.</p> <p>Вычислить число посещений к врачам-педиатрам участковым на планируемый год.</p>
10	<p>Задача. Рыночный спрос на «Арбидол» на локальном рынке выражен уравнением: $Q_D=1000-P$ (тыс. шт.)</p> <p>Рыночное предложение «Арбидола» на этом рынке выражено уравнением: $Q_S=P-200$ (тыс. шт.)</p> <p>Государство установило ценовой барьер на этот лекарственный препарат в размере 400 ден.ед.</p> <p>Возникнет ли на рынке инфлит или дефицит товара? Какова его величина?</p>
11	<p>Задача. В городе М. до проведения профилактических и оздоровительных мероприятий, направленных на снижение заболеваемости населения, было зарегистрировано 63 случая бронхиальной астмой. После выполнения комплекса мероприятий число заболеваний снизилось до 48 случаев. Экономический ущерб от 1 случая заболевания бронхиальной астмой составил 23 480 тыс. рублей.</p> <p>Определить экономический эффект от снижения заболеваемости бронхиальной астмой в городе М.</p>
12	<p>Задача. Функции спроса и предложения на противовирусный лекарственный препарат на рынке имеют вид соответственно</p> <p>$Q_D=3200-6P$ и $Q_S=3P-400$. Чему равны равновесные цена и объем производства? Чему равны избыточный спрос при цене $P=250$ и избыточное предложение препарата при цене $P=450$?</p>
13	<p>Задача.</p>

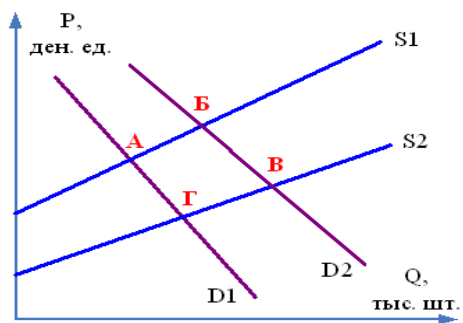
	<p>Функция спроса на национальном рынке фармацевтического препарата задана уравнением $Q_D = 50000 - 6P$, где Q_D – величина спроса (тыс. шт.), P – цена (ден. ед.); функция предложения препарата задана уравнением $Q_S = 10P - 30000$, где Q_S – величина предложения (тыс. шт.), P – цена (ден. ед.). Определить равновесный объем продаж.</p>
14	<p>Задача. Функция спроса на уникальный лекарственный препарат производителя-монополиста имеет вид $Q_d = 12 - 0,5P$. Функция общих (валовых) издержек монополиста $ТС = 3Q^2 + 4Q + 6$. Найти оптимальные выпуск Q, цену P и максимальную прибыль $P\pi$ компании-монополиста.</p>
15	<p>Задача. Зная затраты на отделение больницы, рассчитайте цену 1 койко-дня с учетом рентабельности, если норма рентабельности составляет 20% (то есть, коэффициент рентабельности = 0,2). Затраты в год на терапевтическое отделение ЦРБ: Зарплата - 114,3 тыс. рублей Отчисления во внебюджетные фонды - 15 тыс. рублей Хозрасходы - 183 тыс. рублей Командировочные - 6 тыс. рублей Питание - 57,7 тыс. рублей Медикаменты - 153,3 тыс. рублей Приобретение оборудования - 0 тыс. рублей Мягкий инвентарь - 13,41 тыс. рублей Кап. ремонт - 0 тыс. рублей Прочие - 9,91 тыс. рублей Количество койко-дней 3200</p>
16	<p>Задача. На рисунке представлена графическая модель доходов и издержек компании-монополиста, производящей уникальный лекарственный препарат. Определите монопольную прибыль при оптимальном объеме производства.</p>



- 17 **Задача.** На рисунке представлены варианты рыночного равновесия при пересечении разных кривых спроса и предложения на рынке продуктов детского питания. Первоначально рыночное равновесие установилось в точке Д. Смещение рыночного равновесия с точку З произойдет, если...
- А. Повысится рождаемость;
 - В. Увеличится количество производителей детского питания;
 - С. Повысятся цены на компоненты для производства детского питания;
 - Д. Увеличатся налоги на доходы производителей детского питания.



- 18 **Задача.** На рисунке представлены варианты рыночного равновесия при пересечении разных кривых спроса и предложения на рынке лекарственных препаратов против гриппа. Рыночное равновесие установилось в точке А. Какие изменения могут привести к смещению рыночного равновесия в точку Б?
- А. Предоставление государством дотаций фармацевтическим компаниям, производящим эти лекарственные препараты;
 - В. Эпидемия гриппа;
 - С. Повышение цен на сырье для производства лекарственных препаратов против гриппа;
 - Д. Увлечение населения самолечением с помощью народных средств.



19 **Задача.** Валовые издержки фармацевтического предприятия представлены функцией:
 $TC = 2Q^4 - 5Q^3 + 7Q^2 + 10Q + 500$
 Чему равны постоянные издержки медицинского центра?

20 **Задача.** В Н. областной больнице в отчетном году имелось 180 штатных должностей врачей. Число занятых должностей – 170,5, число физических лиц на занятых должностях составило 130. Рассчитать и оценить соответствующие показатели.