



Министерство здравоохранения Российской Федерации

федеральное государственное бюджетное образовательное учреждение
высшего образования

«Рязанский государственный медицинский университет
имени академика И.П. Павлова»

Министерства здравоохранения Российской Федерации
ФГБОУ ВО РязГМУ Минздрава России

Утверждено решением ученого совета
Протокол №10 от 21.05.2024 г

Комплект оценочных материалов по дисциплине	«Экономика»
Образовательная программа	Основная профессиональная образовательная программа высшего образования - программа специалитета по специальности 31.05.01 Лечебное дело
Квалификация	Врач-лечебник
Форма обучения	очная

Разработчик: кафедра гуманитарных дисциплин

ИОФ	Ученая степень, ученое звание	Место работы (организация)	Должность
О.В. Нариманова	кандидат экономических наук, доцент	ФГБОУ ВО РязГМУ Минздрава России	доцент кафедры гуманитарных дисциплин

Рецензент (ы):

ИОФ	Ученая степень, ученое звание	Место работы (организация)	Должность
А.В. Павлов	доктор медицинских наук, профессор	ФГБОУ ВО РязГМУ Минздрава России	декан лечебного факультета
Т.Г. Авачёва	кандидат физико- математических наук, доцент	ФГБОУ ВО РязГМУ Минздрава России	зав. кафедрой математики, физики и медицинской информатики

Одобрено учебно-методической комиссией по специальности Лечебное дело
Протокол № 8 от 23.04. 2024 г.

Одобрено учебно-методическим советом.
Протокол № 7 от 25.04. 2024г.

1. Паспорт комплекта оценочных материалов

1.1. Комплект оценочных материалов (далее – КОМ) предназначен для оценки планируемых результатов освоения рабочей программы дисциплины «Экономика»

1.2. КОМ включает задания для проведения текущего контроля и промежуточной аттестации.

Общее количество заданий и распределение заданий по типам и компетенциям:

Код и наименование компетенции	Количество заданий закрытого типа	Количество заданий открытого типа
УК-10 Способен принимать обоснованные экономические решения в различных областях жизнедеятельности	56	43
Итого	56	43

1.3. Дополнительные материалы и оборудование для выполнения заданий (при необходимости).

Дополнительные материалы и оборудование для выполнения заданий не используются.

2. Задания всех типов, позволяющие осуществлять оценку всех компетенций, установленных рабочей программой дисциплины «Экономика»

Код и наименование компетенции	№ п/п	Задание с инструкцией								
УК-10 Способен принимать обоснованные экономические решения в различных областях жизнедеятельности	Задания закрытого типа									
	1.	Установите правильную хронологическую последовательность возникновения течений экономической теории: А. Кейнсианство Б. Классическая буржуазная политическая экономия В. Меркантилизм Д. Неоклассицизм Запишите соответствующую последовательность цифр слева направо: <table border="1" data-bbox="414 598 640 659"> <tr> <td>А</td> <td>Б</td> <td>В</td> <td>Г</td> </tr> <tr> <td></td> <td></td> <td></td> <td></td> </tr> </table>	А	Б	В	Г				
	А	Б	В	Г						
2.	Установите правильную последовательность фаз (стадий) процесса воспроизводства: А. Потребление Б. Непосредственное производство В. Обмен Г. Распределение Запишите соответствующую последовательность цифр слева направо: <table border="1" data-bbox="414 874 640 935"> <tr> <td>А</td> <td>Б</td> <td>В</td> <td>Г</td> </tr> <tr> <td></td> <td></td> <td></td> <td></td> </tr> </table>	А	Б	В	Г					
А	Б	В	Г							
3.	Установите правильную хронологическую последовательность появления разных типов экономических систем: А. Административно-командная Б. Чистый капитализм В. Смешанная экономика Г. Традиционная экономика <table border="1" data-bbox="414 1150 640 1211"> <tr> <td>А</td> <td>Б</td> <td>В</td> <td>Г</td> </tr> <tr> <td></td> <td></td> <td></td> <td></td> </tr> </table>	А	Б	В	Г					
А	Б	В	Г							
4	Установите правильную последовательность прав собственности по принципу возрастания числа их участников (субъектов): А. Право на доход Б. Право суверена В. Право управления Г. Право использования Запишите соответствующую последовательность цифр слева направо:									

		А	Б	В	Г
5	Расположите в правильной последовательности модели рынков по принципу возрастания конкуренции продавцов: А. Рынок монополистической конкуренции Б. Рынок совершенной (чистой) конкуренции В. Рынок чистой монополии Г. Рынок олигополистической конкуренции				
		А	Б	В	Г
6	Расположите в правильной последовательности следующие нормы амортизации для разных видов оборудования по принципу возрастания сроков списания первоначальной стоимости оборудования в амортизационный фонд: А. 20% Б. 10% В. 15% Г. 5%				
		А	Б	В	Г
7	Расположите рынки в правильной последовательности по степени возрастания их концентрации, если индекс Герфиндаля для этих рынков составляет: А. 10 000 Б. 3750 В. 6820 Г. 2250				
		А	Б	В	Г
8	Расположите следующие товары в правильной последовательности по принципу убывания коэффициента эластичности спроса по цене: А. Недвижимость Б. Хлеб В. Жизненно важные лекарства Г. Товары на рынке современной конкуренции				
		А	Б	В	Г
9	Расположите следующие группы товаров в правильной последовательности по принципу возрастания				

коэффициента эластичности спроса по доходу:

- А. Товары высшей категории
- Б. Товары низшей категории
- В. Товары первой необходимости
- Г. Пищевые продукты

А	Б	В	Г

10

Установите правильную последовательность рыночных периодов различной протяжённости в зависимости от возрастания эластичности предложения товаров в рамках этих периодов:

- А. Долгосрочный период, отрасли с постоянными издержками
- Б. Кратчайший период
- В. Краткосрочный период
- Г. Долгосрочный период, отрасли с изменяющимися издержками

А	Б	В	Г

11

Расположите в правильной последовательности значения средних валовых издержек (средней себестоимости единицы продукции), если известно, что фирма увеличивает объём выпуска продукции и при этом действует положительный эффект масштаба:

- А. 250 руб.
- Б. 300 руб.
- В. 150 руб.
- Г. 200 руб.

А	Б	В	Г

12

Установите правильную хронологическую последовательность возникновения следующих систем денежного обращения:

- А. Золотодевизный стандарт
- Б. Биметаллизм
- В. Золотослитковый стандарт
- Г. Золотомонетный стандарт

А	Б	В	Г

13

Установите правильную хронологическую последовательность возникновения международных валютных систем:

- А. Бреттон-Вудская
- Б. Золотой стандарт

В. Золотовалютный стандарт
Г. Ямайская

А	Б	В	Г

14

Распределите следующие макроэкономические показатели по степени убывания их величины:

А. Располагаемый доход
Б. Валовый внутренний продукт
В. Личный доход
Г. Зарплата

А	Б	В	Г

15

Расположите в правильной последовательности денежные агрегаты по принципу возрастания объёма их денежной массы:

А. М2
Б. L
В. М0
Г. М1

А	Б	В	Г

16

К каждой позиции, данной в левом столбце, подберите соответствующую позицию из правого столбца:

	Формы рынка		Примеры
А	монополия	1	Фондовая биржа
Б	монопсония	2	ФГУП «Почта России» ПАО «Российские железные дороги»
В	олигополия	3	Несколько агрохолдингов покупают сельскохозяйственную продукцию множества фермеров
Г	олигопсония	4	Производство автомобилей несколькими крупными компаниями
Д	полиполия	5	Рынок труда населённого пункта, где все жители работают на единственном предприятии

Запишите выбранные цифры под соответствующими буквами:

А	Б	В	Г	Д

17	<p>К каждой позиции, данной в левом столбце, подберите соответствующую позицию из правого столбца:</p> <table border="1"> <thead> <tr> <th>Модели рынка</th> <th></th> <th>Основные признаки</th> </tr> </thead> <tbody> <tr> <td>А Рынок совершенной (чистой) конкуренции</td> <td>1</td> <td>один продавец и много покупателей; отсутствие заменителей у продукта</td> </tr> <tr> <td>Б Рынок монополистической конкуренции</td> <td>2</td> <td>от 2 до 10 продавцов и много покупателей; продукт и однородный, и дифференцированный</td> </tr> <tr> <td>В Рынок олигополистической продукции</td> <td>3</td> <td>неограниченное число продавцов и покупателей; абсолютно однородный продукт</td> </tr> <tr> <td>Г Рынок чистой монополии</td> <td>4</td> <td>от 10 до 100 продавцов, неограниченное число покупателей; дифференцированный продукт</td> </tr> </tbody> </table> <p>Запишите выбранные цифры под соответствующими буквами:</p> <table border="1"> <tr> <td>А</td> <td>Б</td> <td>В</td> <td>Г</td> </tr> <tr> <td></td> <td></td> <td></td> <td></td> </tr> </table>			Модели рынка		Основные признаки	А Рынок совершенной (чистой) конкуренции	1	один продавец и много покупателей; отсутствие заменителей у продукта	Б Рынок монополистической конкуренции	2	от 2 до 10 продавцов и много покупателей; продукт и однородный, и дифференцированный	В Рынок олигополистической продукции	3	неограниченное число продавцов и покупателей; абсолютно однородный продукт	Г Рынок чистой монополии	4	от 10 до 100 продавцов, неограниченное число покупателей; дифференцированный продукт	А	Б	В	Г				
	Модели рынка		Основные признаки																							
А Рынок совершенной (чистой) конкуренции	1	один продавец и много покупателей; отсутствие заменителей у продукта																								
Б Рынок монополистической конкуренции	2	от 2 до 10 продавцов и много покупателей; продукт и однородный, и дифференцированный																								
В Рынок олигополистической продукции	3	неограниченное число продавцов и покупателей; абсолютно однородный продукт																								
Г Рынок чистой монополии	4	от 10 до 100 продавцов, неограниченное число покупателей; дифференцированный продукт																								
А	Б	В	Г																							
18	<p>К каждой позиции, данной в левом столбце, подберите соответствующую позицию из правого столбца:</p> <table border="1"> <thead> <tr> <th>Рынки финансовых ресурсов</th> <th></th> <th>Рыночные структуры</th> </tr> </thead> <tbody> <tr> <td>А Денежно-кредитный рынок</td> <td>1</td> <td>Биржи драгоценных металлов</td> </tr> <tr> <td>Б Рынок ценных бумаг</td> <td>2</td> <td>Валютные биржи, валютные отделы фондовых бирж и банков, пункты обмена валют</td> </tr> <tr> <td>В Валютный рынок</td> <td>3</td> <td>Фондовые биржи, брокерские фирмы</td> </tr> <tr> <td>Г Рынок драгоценных металлов</td> <td>4</td> <td>Банки и другие кредитно-финансовые учреждения</td> </tr> </tbody> </table> <p>Запишите выбранные цифры под соответствующими буквами:</p> <table border="1"> <tr> <td>А</td> <td>Б</td> <td>В</td> <td>Г</td> </tr> <tr> <td></td> <td></td> <td></td> <td></td> </tr> </table>			Рынки финансовых ресурсов		Рыночные структуры	А Денежно-кредитный рынок	1	Биржи драгоценных металлов	Б Рынок ценных бумаг	2	Валютные биржи, валютные отделы фондовых бирж и банков, пункты обмена валют	В Валютный рынок	3	Фондовые биржи, брокерские фирмы	Г Рынок драгоценных металлов	4	Банки и другие кредитно-финансовые учреждения	А	Б	В	Г				
	Рынки финансовых ресурсов		Рыночные структуры																							
А Денежно-кредитный рынок	1	Биржи драгоценных металлов																								
Б Рынок ценных бумаг	2	Валютные биржи, валютные отделы фондовых бирж и банков, пункты обмена валют																								
В Валютный рынок	3	Фондовые биржи, брокерские фирмы																								
Г Рынок драгоценных металлов	4	Банки и другие кредитно-финансовые учреждения																								
А	Б	В	Г																							
19	<p>К каждой позиции, данной в левом столбце, подберите соответствующую позицию из правого столбца:</p>																									

	Макроэкономические показатели		Экономическая характеристика
А	Валовый внутренний продукт	1	Оставшаяся часть личного дохода после уплаты налогов физическими лицами
Б	Валовый национальный доход	2	Сумма ВВП и сальдо первичных доходов из-за границы
В	Личный доход	3	Стоимость всех произведённых в стране за год товаров и услуг
Г	Распределительный доход	4	Сумма зарплаты, процентов, ренты, потребляемой части прибыли, а также социальных выплат

Запишите выбранные цифры под соответствующими буквами:

А	Б	В	Г

20

К каждой позиции, данной в левом столбце, подберите соответствующую позицию из правого столбца:

	Формы предпринимательской деятельности		Определения
А	ИП (индивидуальные предприятия)	1	Фирмы, находящиеся в совместной собственности двух или более лиц, имеющих свою долю в прибыли; участники являются равноправными собственниками и несут полную имущественную ответственность
Б	Полные товарищества	2	Фирмы, находящиеся в совместной собственности двух или более лиц; среди участников есть полные товарищи и участники - вкладчики
В	Товарищества на вере	3	Фирмы, где все права собственности осуществляет гражданин или его семья
Г	Общества с ограниченной ответственностью	4	Добровольные объединения граждан для совместной производственной или иной хозяйственной деятельности
Д	Акционерные общества	5	Фирмы, где уставной капитал

			формируется из вкладов учредителей, которые несут риск убытков в размере своего вклада
Е	Государственные и муниципальные унитарные предприятия	6	Крупные компании, уставной капитал которых разделён на определённое число долей (акций), принадлежащих участникам общества
Ж	Производственные кооперативы	7	Предприятия, которые принадлежат федеральным органам власти или органам местного самоуправления не обладают правами собственности на закреплённое за ними неделимое имущество

Запишите выбранные цифры под соответствующими буквами:

А	Б	В	Г	Д	Е	Ж

21. К каждой позиции, данной в левом столбце, подберите соответствующую позицию из правого столбца:

	Экономические понятия		Определения
А	Амортизация	1	Устаревание оборудования по сравнению с новыми, более эффективными его образцами
Б	Амортизационные отчисления	2	Постепенная потеря стоимости оборудованием и зданиями, а также накопление денежных средств на их восстановление в амортизационном фонде
В	Физический износ оборудования	3	Сумма ежегодных отчислений организаций в амортизационный фонд
Г	Моральный износ оборудования	4	Потеря оборудованием его функциональных свойств в процессе эксплуатации
Д	Норма амортизации	5	Установленный Министерством финансов процент ежегодных отчислений в амортизационный фонд от первоначальной стоимости оборудования и зданий

Запишите выбранные цифры под соответствующими буквами:

А	Б	В	Г	Д

22. К каждой позиции, данной в левом столбце, подберите соответствующую позицию из правого

столбца:

	Экономические ресурсы		Определения
А	Земля	1	Целесообразная, сознательная деятельность с целью получения экономических благ
Б	Капитал	2	Территория для размещения различных промышленных объектов, дорог, для ведения сельскохозяйственной деятельности; недра земли и силы природы
В	Труд	3	Созданные людьми производственные ресурсы, используемые для получения экономических благ и их доставки потребителю
Г	Предпринимательские способности	4	Умение создавать эффективный бизнес, находить оптимальную комбинацию ресурсов для максимизации прибыли

Запишите выбранные цифры под соответствующими буквами:

А	Б	В	Г

23

К каждой позиции, данной в левом столбце, подберите соответствующую позицию из правого столбца:

	Модели экономических процессов		Графическая интерпретация
А	Модель альтернативного использования постоянного объёма экономических ресурсов стран для выпуска двух видов продукции	1	Кривая изменения объёма ВВП страны во времени
Б	Эффект масштаба	2	Кривая зависимости средних валовых издержек фирмы в долгосрочном периоде от увеличения объёма производства продукции
В	Модель рыночного равновесия	3	Кривая производственных возможностей
Г	Модель экономического цикла	4	Пересекающиеся кривые спроса и предложения

Запишите выбранные цифры под соответствующими буквами:

А	Б	В	Г

Задания открытого типа

1. Дайте развернутый обоснованный ответ на вопрос:
Какие разделы включает экономическая теория?
2. Дайте развернутый обоснованный ответ на вопрос:
Какие функции выполняет экономическая наука?
3. Дайте развернутый обоснованный ответ на вопрос:
Что такое экономические блага и как они различаются в зависимости от их редкости?
4. Дайте развернутый обоснованный ответ на вопрос:
Как подразделяются экономические блага в зависимости от их назначения и способов использования?
5. Дайте развернутый обоснованный ответ на вопрос:
Что такое расширенное воспроизводство и каковы его типы?
6. Дайте развернутый обоснованный ответ на вопрос:
Как можно оценить эффективность процесса воспроизводства в масштабах экономики
7. Дайте развернутый обоснованный ответ на вопрос:
Что понимается под типами экономических систем?
8. Дайте развернутый обоснованный ответ на вопрос:
На основе каких критериев выделяются типы экономических систем?
9. Дайте развернутый обоснованный ответ на вопрос:
Что такое валовый внутренний продукт (ВВП)?
10. Дайте развернутый обоснованный ответ на вопрос:
Каковы методы определения (измерения) валового внутреннего продукта (ВВП)?
11. Дайте развернутый обоснованный ответ на вопрос:
Что является высшим органом управления акционерным обществом. Какие вопросы находятся в его исключительной компетенции?
12. Дайте развернутый обоснованный ответ на вопрос:
Что такое право собственности и каково место этого понятия в современной теории собственности?
13. Дайте развернутый обоснованный ответ на вопрос:
На основе каких критериев фирмы делятся на крупные, средние и мелкие?

14	<p>Дайте развернутый обоснованный ответ на вопрос: Сформулируйте закон убывающей отдачи. На какие экономические ресурсы он распространяется?</p>				
15	<p>Дайте развернутый обоснованный ответ на вопрос: В чём проявляется эффект масштаба? Что означают положительный и отрицательный эффект масштаба?</p>				
16	<p>Дайте развернутый обоснованный ответ на вопрос: Что собой представляет рынок экономических ресурсов и какие подразделения он включает?</p>				
17	<p>Дайте развернутый обоснованный ответ на вопрос: Какие модели рынка выделяются на основе особенностей конкуренции продавцов и характера реализуемой продукции?</p>				
18	<p>Дайте развернутый обоснованный ответ на вопрос: Какие функции выполняют в современной смешанной экономике рыночные механизмы?</p>				
19	<p>Дайте развернутый обоснованный ответ на вопрос: В чём заключаются недостатки рыночных механизмов? Что означает «фиаско рынка»?</p>				
20	<p>Дайте развернутый обоснованный ответ на вопрос: Какие функции выполняет государство в современной смешанной экономике?</p>				
21	<p>Дайте развернутый обоснованный ответ на вопрос: Что такое экономические циклы? Какие фазы включает экономический цикл?</p>				
22	<p>Дайте развернутый обоснованный ответ на вопрос: Как различаются по продолжительности экономические циклы?</p>				
23	<p>Дайте развернутый обоснованный ответ на вопрос: Что означают понятия «рыночное равновесие» и «рыночное неравновесие»?</p>				
Задания закрытого типа (дополнительно)					
1.	<p>Прочитайте текст и выберите правильный ответ из предложенных. Изучение взаимодействия спроса и предложения с учетом влияния на них отдельных факторов является примером применения такого метода познания, как</p> <p style="margin-left: 40px;">А) Нормативный анализ Б) Моделирование В) Синтез Г) Эксперимент</p> <p>Запишите выбранный ответ – букву</p> <table border="1" style="margin-left: 40px; width: 100px;"> <tr> <td style="width: 20px; height: 20px; text-align: center;">А</td> <td style="width: 20px; height: 20px; text-align: center;">Б</td> <td style="width: 20px; height: 20px; text-align: center;">В</td> <td style="width: 20px; height: 20px; text-align: center;">Г</td> </tr> </table>	А	Б	В	Г
А	Б	В	Г		

2.	Прочитайте текст и выберите правильный ответ из предложенных. Если объёмы производства сокращаются, то воспроизводство называется А) Сокращенным Б) Постоянным В) Суженным Г) Простым Запишите выбранный ответ – букву			
		А	Б	В
3.	Прочитайте текст и выберите правильный ответ из предложенных. В традиционной экономике главной отраслью является А) Промышленность Б) Сельское хозяйство В) Наука Г) Торговля Запишите выбранный ответ – букву			
		А	Б	В
4	Прочитайте текст и выберите правильный ответ из предложенных. Акционерная собственность является А) Частной Б) Государственной В) Муниципальной Г) Личной Запишите выбранный ответ – букву			
		А	Б	В
5	Прочитайте текст и выберите правильный ответ из предложенных. В случае сбора фактической информации для подтверждения выдвинутой гипотезы исследователь использует _____ как метод экономической теории А) Дедукцию Б) Индукцию В) Абстрагирование Г) Моделирование			

Запишите выбранный ответ – букву

А	Б	В	Г

Прочитайте текст и выберите правильный ответ из предложенных.

Оборудование предприятия рассчитано на 10 лет эксплуатации. Через 4 года в амортизационный фонд будет списано _____ % первоначальной стоимости оборудования, а его стоимость составит _____ %

А) 60%; 40%

Б) 10%; 90%

В) 40%; 60%

Г) 100% ; 0%

Запишите выбранный ответ – букву

А	Б	В	Г

6

Прочитайте текст и выберите правильный ответ из предложенных.

Акционерная собственность является

А) Частной

Б) Государственной

В) Муниципальной

Г) Личной

Запишите выбранный ответ – букву

А	Б	В	Г

7

Прочитайте текст и выберите правильный ответ из предложенных.

Величину дивидендов, распределяемых по акциям, определяет и утверждает

А) Общее собрание акционеров

Б) Совет директоров

В) Правление акционерного общества

Г) Председатель правления АО

Запишите выбранный ответ – букву

А	Б	В	Г

8

Прочитайте текст и выберите правильный ответ из предложенных.

Исключите неверное утверждение:

А) Полная имущественная ответственность предпринимателя означает риск потерять и все

вложения в бизнес, и всё личное имущество
Б) Ограниченная ответственность означает только риск вкладом в бизнес
В) Солидарная ответственность означает, что предприниматели несут совместную ответственность, при которой кредитор имеет право взыскать долг с любого из них, с нескольких или со всех в произвольной пропорции
Г) Участники акционерных обществ несут полную имущественную ответственность.

Запишите выбранный ответ – букву

А	Б	В	Г

9 Прочитайте текст и выберите правильный ответ из предложенных.
К преимуществам крупных компаний по сравнению с мелкими и средними относятся
А) Большая гибкость в адаптации к изменениям спроса
Б) Диверсификация
В) Меньшая бюрократизация
Г) Отсутствие негативных последствий монополизма

Запишите выбранный ответ – букву

А	Б	В	Г

10 Прочитайте текст и выберите правильный ответ из предложенных.
Количество одного продукта, от производства которого следует отказаться для выпуска единицы другого продукта, называется
А) Бартер
Б) Альтернативная стоимость
В) Парето - эффективность
Г) Номинальная стоимость

Запишите выбранный ответ – букву

А	Б	В	Г

11 Прочитайте текст и выберите правильный ответ из предложенных.
Возможные комбинации производства двух продуктов в условиях полной занятости ресурсов страны представлены на
А) Кривой производственных возможностей
Б) Кривой убывающей отдачи
В) Кривой средних валовых издержек в долгосрочном периоде
Г) Кривой обучения

Запишите выбранный ответ – букву

А	Б	В	Г

12

Прочитайте текст и выберите правильный ответ из предложенных.

Национальный доход страны – это

- А) Сумма первичных и вторичных доходов в стране за год
- Б) Сумма первичных доходов в стране за год
- В) Стоимость произведённых в стране за год конечных товаров и услуг
- Г) Сумма личных доходов населения страны за год

Запишите выбранный ответ – букву

А	Б	В	Г

13

Прочитайте текст и выберите правильный ответ из предложенных.

Валовой внутренний продукт страны – это

- А) Сумма первичных и вторичных доходов в стране за год
- Б) Сумма первичных доходов в стране за год
- В) Стоимость произведённых в стране за год конечных товаров и услуг
- Г) Сумма личных доходов населения страны за год

Запишите выбранный ответ – букву

А	Б	В	Г

14

Прочитайте текст и выберите правильный ответ из предложенных.

В условиях макроэкономического равновесия

- А) Рыночный спрос равен рыночному предложению
- Б) Отсутствует инфляция
- В) Совокупный спрос равен совокупному предложению
- Г) Отсутствует безработица

Запишите выбранный ответ – букву

А	Б	В	Г

15

Прочитайте текст и выберите правильный ответ из предложенных.

Вторичные доходы (трансферты) включают:

- А) Проценты по банковским вкладам, арендные платежи, гонорары, прибыль
- Б) Пособия по безработице, по инвалидности, материнский капитал, пенсии,

пенсии
В) Пенсии, пособия многодетным, страховые платежи, арендные платежи
Г) Зарплату, прибыль, проценты по банковским вкладам, ренту
Запишите выбранный ответ – букву

А	Б	В	Г

16 Прочитайте текст и выберите правильный ответ из предложенных.
Какая стадия воспроизводства отсутствует в условиях натурального хозяйства?
А) Обмен
Б) Производство
В) Распределение
Г) Потребление
Запишите выбранный ответ – букву

А	Б	В	Г

17 Прочитайте текст и выберите правильный ответ из предложенных.
Ограниченной ответственностью в предпринимательстве обладают:
А) Полные товарищи
Б) Участники – вкладчики в товариществах на вере
В) Учредители ИП
Г) Акционеры
Запишите выбранный ответ – букву(-ы)

А	Б	В	Г

18 Прочитайте текст и выберите правильный ответ из предложенных.
Использование каких экономических ресурсов подчиняется закону убывающей отдачи:
А) Труда
Б) Капитала
В) Земли
Г) Любых
Запишите выбранный ответ – букву

А	Б	В	Г
---	---	---	---

19 Прочитайте текст и выберите правильный ответ из предложенных.

Под ценными бумагами понимают
А) Векселя
Б) Акции и облигации
В) Банкноты
Г) Депозиты
Запишите выбранный ответ – букву

А	Б	В	Г

20 Прочитайте текст и выберите правильный ответ из предложенных.
Полная имущественная ответственность характерна для участников
А) ИП
Б) ООО
В) ОАО
Г) Полные товарищества
Запишите выбранный ответ – букву

А	Б	В	Г

21 Прочитайте текст и выберите правильный ответ из предложенных.
Какие из указанных фирм не имеют права выпускать акции?
А) Открытые акционерные общества
Б) Закрытые акционерные общества
В) Общества с ограниченной ответственностью
Г) Хозяйственные товарищества
Запишите выбранный ответ – букву(-ы)

А	Б	В	Г

22 Прочитайте текст и выберите правильный ответ из предложенных.
К постоянным издержкам относятся...
А) заработная плата работников
Б) амортизация машин и оборудования
В) затраты на сырье и материалы
Г) страховые выплаты
Запишите выбранный ответ – букву

А	Б	В	Г

23	<p>Прочитайте текст и выберите правильный ответ из предложенных. На рынке физического капитала (инвестиционных товаров) покупатели предъявляют спрос на:</p> <p>А) оборудование Б) сырьё В) земельные участки для сельскохозяйственной деятельности Г) стиральные машины для домашних хозяйств</p> <p>Запишите выбранный ответ – букву(-ы)</p> <table border="1" data-bbox="414 391 638 462"> <tr> <td>А</td> <td>Б</td> <td>В</td> <td>Г</td> </tr> <tr> <td></td> <td></td> <td></td> <td></td> </tr> </table>	А	Б	В	Г				
А	Б	В	Г						
24	<p>Прочитайте текст и выберите правильный ответ из предложенных. Признаками рынка олигополистической конкуренции являются</p> <p>А) Несколько продавцов и много покупателей Б) Однородный и дифференцированный продукт В) Прозрачность рынка Г) Отсутствие барьеров для входа и выхода с рынка</p> <p>Запишите выбранный ответ – букву(-ы)</p> <table border="1" data-bbox="414 742 638 813"> <tr> <td>А</td> <td>Б</td> <td>В</td> <td>Г</td> </tr> <tr> <td></td> <td></td> <td></td> <td></td> </tr> </table>	А	Б	В	Г				
А	Б	В	Г						
25	<p>Прочитайте текст и выберите правильный ответ из предложенных. Функциями Центрального банка являются</p> <p>А) денежно-кредитное регулирование экономики Б) хранение золото-валютных резервов В) выдача среднесрочных кредитов юридическим лицам Г) хранение вкладов юридических лиц</p> <p>Запишите выбранный ответ – букву(-ы)</p> <table border="1" data-bbox="414 1093 638 1165"> <tr> <td>А</td> <td>Б</td> <td>В</td> <td>Г</td> </tr> <tr> <td></td> <td></td> <td></td> <td></td> </tr> </table>	А	Б	В	Г				
А	Б	В	Г						
26	<p>Прочитайте текст и выберите правильный ответ из предложенных. Символическими деньгами не являются</p> <p>А) бумажные купюры Б) золотые монеты В) серебряные монеты Г) электронные кредитные карты</p> <p>Запишите выбранный ответ – букву(-ы)</p> <table border="1" data-bbox="414 1444 638 1476"> <tr> <td>А</td> <td>Б</td> <td>В</td> <td>Г</td> </tr> <tr> <td></td> <td></td> <td></td> <td></td> </tr> </table>	А	Б	В	Г				
А	Б	В	Г						

27	<p>Прочитайте текст и выберите правильный ответ из предложенных. Закон спроса выражает...</p> <p>А) независимость спроса от цены Б) прямую зависимость спроса от цены В) обратную зависимость спроса от цены Г) прямо пропорциональную зависимость спроса от цены</p> <p>Запишите выбранный ответ – букву</p> <table border="1"> <tr> <td>А</td> <td>Б</td> <td>В</td> <td>Г</td> </tr> <tr> <td></td> <td></td> <td></td> <td></td> </tr> </table>	А	Б	В	Г						
А	Б	В	Г								
28	<p>Прочитайте текст и выберите правильный ответ из предложенных. Эластичность спроса по цене при прочих равных условиях снижается в случае</p> <p>А) сокращения реальных доходов населения Б) увеличения количества товаров-заменителей на рынке В) роста реальных доходов населения Г) увеличения у покупателей количества времени для принятия решения о покупке.</p> <p>Запишите выбранный ответ – букву</p> <table border="1"> <tr> <td>А</td> <td>Б</td> <td>В</td> <td>Г</td> </tr> <tr> <td></td> <td></td> <td></td> <td></td> </tr> </table>	А	Б	В	Г						
А	Б	В	Г								
29	<p>Прочитайте текст и выберите правильный ответ из предложенных. Закон предложения выражает...</p> <p>А) независимость предложения от цены Б) прямую зависимость предложения от цены В) обратную зависимость предложения от цены Г) прямо пропорциональную зависимость предложения от цены</p> <p>Запишите выбранный ответ – букву</p> <table border="1"> <tr> <td>А</td> <td>Б</td> <td>В</td> <td>Г</td> </tr> <tr> <td></td> <td></td> <td></td> <td></td> </tr> </table>	А	Б	В	Г						
А	Б	В	Г								
30	<p>Прочитайте текст и выберите правильный ответ из предложенных. Какой из признаков соответствует рынку совершенной (чистой) конкуренции...</p> <p>А) продавцы могут оказывать влияние на рыночную цену Б) неограниченное число продавцов и покупателей В) доступ участников рынка к экономической информации затруднен Г) однородная продукция</p>										

Запишите выбранный ответ – букву(-ы)

А	Б	В	Г

31 Прочитайте текст и выберите правильный ответ из предложенных.

С ростом налогов предложение на рынке...

- А) уменьшается
- Б) увеличивается
- В) остается без изменений
- Г) сначала сокращается, а потом возрастает

Запишите выбранный ответ – букву

А	Б	В	Г

32 Прочитайте текст и выберите правильный ответ из предложенных.

Спрос на жизненно важные лекарственные препараты ...

- А) совершенно эластичен
- Б) совершенно неэластичен
- В) эластичен
- Г) неэластичен

Запишите выбранный ответ – букву

А	Б	В	Г

33 Прочитайте текст и выберите правильный ответ из предложенных.

Коэффициент эластичности спроса по цене на предметы первой необходимости...

- А) равен 1
- Б) меньше 1
- В) больше 1
- Г) равен

Запишите выбранный ответ – букву

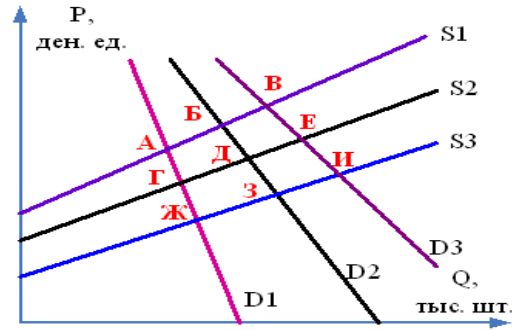
А	Б	В	Г

Практические задания

1 На рисунке представлены варианты рыночного равновесия при пересечении разных кривых спроса и предложения на рынке продуктов детского питания. Первоначально рыночное равновесие установилось в точке Д. Смещение рыночного равновесия с точку З произойдет,

если...

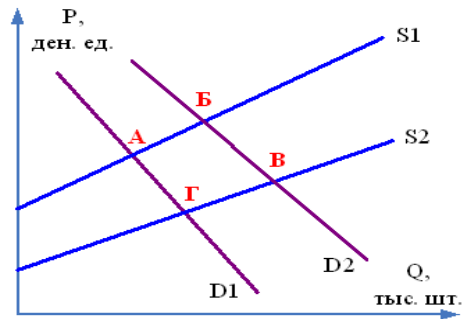
- А. Повысится рождаемость;
- В. Увеличится количество производителей детского питания;
- С. Повысятся цены на компоненты для производства детского питания;
- Д. Увеличатся налоги на доходы производителей детского питания.



2

На рисунке представлены варианты рыночного равновесия при пересечении разных кривых спроса и предложения на рынке лекарственных препаратов против гриппа. Рыночное равновесие установилось в точке А. Какие изменения могут привести к смещению рыночного равновесия в точку Б?

- А. Предоставление государством дотаций фармацевтическим компаниям, производящим эти лекарственные препараты;
- В. Эпидемия гриппа;
- С. Повышение цен на сырье для производства лекарственных препаратов против гриппа;
- Д. Увлечение населения самолечением с помощью народных средств.



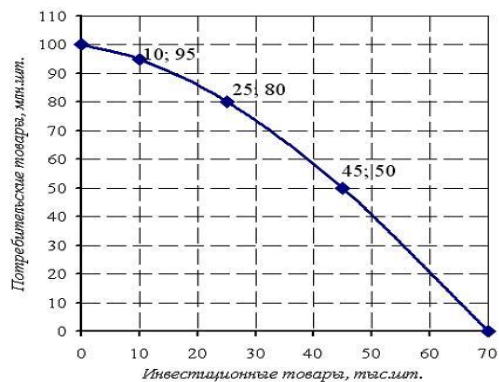
3

Валовые издержки частного медицинского центра представлены функцией:

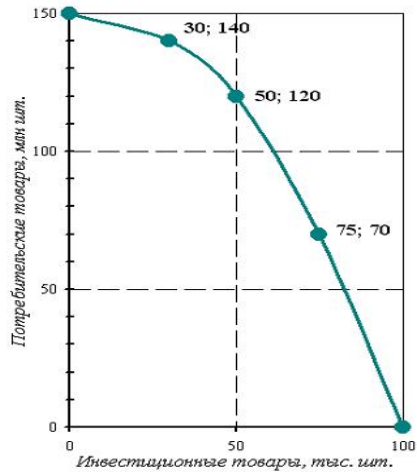
$$TC = 2Q^4 - 5Q^3 + 7Q^2 + 10Q + 50$$

Чему равны постоянные издержки медицинского центра?

4 .Экономика некоторой страны находится на границе своих производственных возможностей, которые отражены на рис.1. Текущая ситуация: производится 25 тыс. шт. инвестиционных товаров и 80 млн. шт. потребительских товаров. Определить альтернативную стоимость решения об увеличении производства инвестиционных товаров на 20 тыс. шт., выразив её в млн. шт. потребительских товаров.

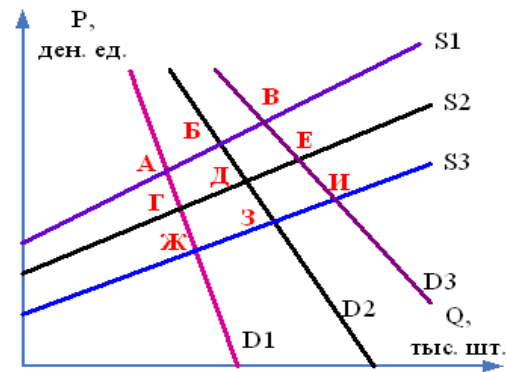


5 Экономика некоторой страны находится на границе своих производственных возможностей, которые отражены ниже на рисунке. Текущая ситуация: производится 75 тыс. шт. инвестиционных товаров и 70 млн. шт. потребительских товаров. Определить альтернативную стоимость решения об увеличении производства потребительских товаров на 50 млн. шт., выразив её в тыс. шт. инвестиционных товаров.



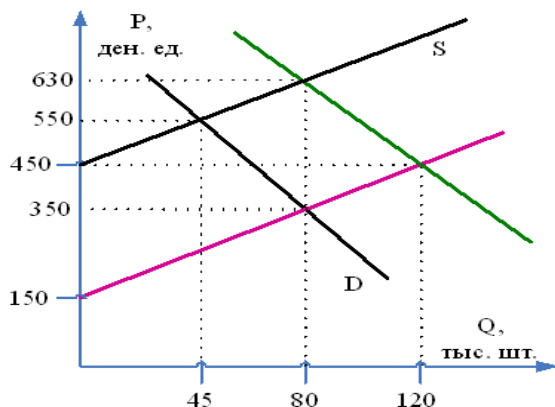
6 Экономика некоторой страны находится на границе своих производственных возможностей, которые отражены на рис. 3. Текущая ситуация: производится 50 тыс. шт. инвестиционных товаров и 140 млн. шт. потребительских товаров. Определить альтернативную стоимость решения об увеличении производства инвестиционных товаров на 25 тыс. шт., выразив её в млн. шт. потребительских товаров.

7 На рисунке представлены варианты рыночного равновесия при пересечении разных кривых спроса и предложения на вторичном рынке мебели. Рыночное равновесие установилось в точке D. Рост среднедушевых доходов населения при прочих равных условиях первоначально приведет к установлению нового равновесия, соответствующего точке ...



8 Первоначальные кривые функций спроса и предложения на рынке некоторой продукции

представлены линиями D и S на рис.
Произошло снижение цен на топливо. Определить величину нового объема продаж и новую равновесную цену.



9 Валовые издержки фирмы представлены функцией:
 $TC = 2Q^4 - 5Q^3 + 7Q^2 + 10Q + 50$. Чему равны переменные издержки двух единиц продукции?

10 Зависимость валовых издержек (TC) от объемов производства (Q) представлена в таблице.

Q	0	10	15	25	30	40	50
TC	120	150	160	175	180	210	275

Величина средних переменных издержек при объеме производства, равном 40, составляет ...

11 ВВП страны составил в базовом году 102 трлн. руб., в текущем году – вырос на 8% при индексе цен в этом году – 112 %. Определите объем реального ВВП текущего года и индекс роста ВВП. В какой фазе цикла находится экономика?

12 Ниже даны индексы цен за ряд лет: 2015 г. – 1008 %, 2016 – 1020%, причем 2000 – 100%. Определите уровень инфляции 2016 года.

13 В некотором государстве доходы бюджета составили 385 ден. ед., расходы бюджета – 450 ден. ед., доходы внебюджетных фондов – 35 ден. ед. Определить общий дефицит бюджета.

14	Население страны 60 млн. чел., в том числе дети – 13 млн. чел., пенсионеры – 12 млн. чел., занятые по найму – 25 млн. чел. и 5 млн. чел. – самозанятые (в малом бизнесе), госслужащие – 2 млн. чел., лица в рабочем возрасте, неработающие и не ищущие работу – 1 млн. чел. Определите количество безработных и уровень безработицы.
15	Предприятие выпускает в месяц 300.000 ед. продукции и реализует ее по цене 1000 руб. Какой должна быть рентабельность продукции, чтобы месячная прибыль составила 120 млн. руб.?
16	Себестоимость продукции составляет $\frac{2}{3}$ цены. Цена продукции равна 24.000 руб. Предприятие производит в месяц 20.000 единиц продукции. Определить ежемесячную прибыль предприятия.
17	Определить величину ежегодного дохода, который приносит земельный участок (величину земельной ренты), исходя из следующих данных. Минимальная цена, за которую владелец участка соглашается его продать, составляет 1250 тыс. руб., годовая ставка банковского процента равна 8%.
18	Коэффициент эластичности спроса по цене на лекарственный препарат равен 2. Определить, на сколько процентов изменится объем продаж этого препарата, если цена упаковки повысилась со 120 до 150 руб
19	Доходы бюджета страны равны 900 млрд. ден.ед., расходы на социальные нужды – 400 млрд. ден.ед., государственные закупки товаров и услуг – 350 млрд. ден.ед., проценты по обслуживанию государственного долга – 100 млрд. ден.ед. Определить, сводится ли государственный бюджет с дефицитом или профицитом. Чему он равен?
20.	Уровень инфляции за год составил 18,1 %. Соответственно, в первом квартале цены выросли на 2 %, во втором на 5 %, в третьем на 6 %. Определить, на сколько процентов выросли цены в четвертом квартале